

من امتحانات بكالوريا الجزائر ...

Années : 2008-2017


الدوال العددية

كمال حامدي

الشعب : علوم ، تقني رياضي و رياضيات

56

عدد التمارين :



حوليات البكالوريا

علوم - رياضيات - تقني رياضي

الدوال العددية

حامدي كمال

آخر تحديث : 5 جويلية 2017

شعبة علوم

تمرين 1

علوم - 2017 - الموضوع الأول (7 نقاط)

نعتبر الدالة العددية المعرفة على D حيث $D =]-\infty; -1[\cup]1; +\infty[$ بـ :

$$f(x) = \frac{2}{3}x + \ln\left(\frac{x-1}{x+1}\right)$$

(\mathcal{C}_f) هو تمثيلها البياني في المستوي المنسوب إلى المعلم المتعامد و المتجانس $(O; \vec{i}, \vec{j})$

1. بين أن الدالة f فردية ثم فسّر ذلك بيانيا

2. احسب النقيات التالية : $\lim_{x \rightarrow -\infty} f(x)$ و $\lim_{x \rightarrow +\infty} f(x)$ ، $\lim_{x \rightarrow -1} f(x)$ ، $\lim_{x \rightarrow 1} f(x)$

استنتج أن (\mathcal{C}_f) يقبل مستقيمين مقاربين موازيين لحامل محور الترتيب

3. (أ) بين أنه من أجل كل عدد حقيقي x من D ، $f'(x) = \frac{2}{3} \left(\frac{x^2+2}{x^2-1} \right)$

(ب) استنتج اتجاه تغير الدالة f ثم شكّل جدول تغيراتها

4. بين أن المعادلة $f(x) = 0$ تقبل حلا وحيدا α حيث $1,8 < \alpha < 1,9$

5. بين أن المستقيم (Δ) ذا المعادلة : $y = \frac{2}{3}x$ مستقيم مقارب مائل للمنحنى (\mathcal{C}_f) ثم ادرس وضعية المنحنى (\mathcal{C}_f) بالنسبة

إلى المستقيم (Δ)

6. أنشئ المستقيم (Δ) و المنحنى (\mathcal{C}_f)

7. m وسيط حقيقي، ناقش بيانيا حسب قيم الوسيط m الحقيقي عدد حلول المعادلة :

$$(2 - 3|m|)x + 3 \ln\left(\frac{x-1}{x+1}\right) = 0$$

تمرين 2

علوم - 2017 - الموضوع الثاني (7 نقاط)

الجزء الأول نعتبر الدالة العددية f المعرفة على \mathbb{R} كما يلي : $f(x) = 2 - x^2 e^{1-x}$

و (\mathcal{C}_f) هو تمثيلها البياني في المستوى المنسوب إلى المعلم المتعامد و المتجانس $(O; \vec{i}, \vec{j})$

1. بين أن $\lim_{x \rightarrow +\infty} f(x) = 2$ و أعط تفسيرا هندسيا لهذه النتيجة ، ثم احسب النهاية $\lim_{x \rightarrow -\infty} f(x)$

2. (ا) بي أنه من أجل كل x من \mathbb{R} ، $f'(x) = x(x-2)e^{1-x}$

(ب) ادرس اتجاه تغيّر الدالة f ثم شكّل جدول تغيّراتها

3. اكتب معادلة L (T) للمماس المنحني (\mathcal{C}_f) عند النقطة ذات الفاصلة 1

الجزء الثاني نعتبر الدالة العددية h المعرفة على \mathbb{R} كما يلي : $h(x) = 1 - x e^{1-x}$

1. بين أنه من أجل كل x من \mathbb{R} فإنّ : $h(x) \geq 0$ ، ثم ادرس الوضع النسبي للمنحني (\mathcal{C}_f) و المماس (T)

2. بين أنّ المعادلة $f(x) = 0$ تقبل حلا وحيدا α حيث $-0,7 < \alpha < -0,6$

3. أنشئ المماس (T) و المنحني (\mathcal{C}_f) على المجال $[-1; +\infty[$

4. F الدالة المعرفة على \mathbb{R} كما يلي : $F(x) = 2x + (x^2 + 2x + 2)e^{1-x}$

تحقق أنّ F دالة أصلية للدالة f على \mathbb{R} ، ثم احسب مساحة الحيّز المستوي المحدّد بالمنحني (\mathcal{C}_f) و حامل محور

الفواصل و المستقيمين اللذين معادلتيهما : $x = 0$ و $x = 1$

تمرين 3

علوم - 2016 - الموضوع الأول (7 نقاط)

الجزء الأول لتكن الدالة g المعرفة على المجال $]-1; +\infty[$ بـ : $g(x) = -1 + (x+1)e + 2\ln(x+1)$

(حيث العدد e هو أساس اللوغاريتم النيبيري)

1. ادرس تغيّرات الدالة g ، ثمّ شكل جدول تغيّراتها

2. بيّن أنّ للعدالة $g(x) = 0$ حلا وحيدا α حيث : $-0,34 < \alpha < -0,33$

3. استنتج إشارة $g(x)$ حسب قيم العدد الحقيقي x من المجال $]-1; +\infty[$

الجزء الثاني لتكن الدالة f المعرفة على المجال $]-1; +\infty[$ بـ :

$$f(x) = \frac{e}{x+1} + \frac{\ln(x+1)}{(x+1)^2}$$

(\mathcal{C}_f) هو تمثيلها البياني في المستوي المنسوب إلى المعلم المتعامد و المتجانس ($O; \vec{i}, \vec{j}$)

1. (أ) بيّن أنّ $\lim_{x \rightarrow -1} f(x) = -\infty$ و احسب $\lim_{x \rightarrow +\infty} f(x)$ ، ثمّ فسّر النتيجة هندسيا

(ب) بيّن أنّه من أجل كل عدد حقيقي x من $]-1; +\infty[$: $f'(x) = \frac{-g(x)}{(x+1)^3}$. (f' هي مشتقة الدالة f)

(ج) ادرس اتجاه تغيّر الدالة f على المجال $]-1; +\infty[$ ثمّ شكل جدول تغيّراتها

(د) ارسم المنحنى (\mathcal{C}_f) . (نقبل أنّ $f(\alpha) = 3,16$)

2. (أ) بيّن أنّ الدالة $[1 + \ln(x+1)] \frac{-1}{x+1}$ هي دالة أصلية للدالة $\frac{\ln(x+1)}{(x+1)^2}$ على المجال $]-1; +\infty[$

(ب) احسب مساحة الحيز المستوي المحدد (\mathcal{C}_f) بالمنحنى و حامل محور الفواصل و المستقيمين اللذين معادلتاهما

على التوالي : $x = 0$ و $x = 1$

3. نعتبر الدالة العددية k المعرفة على $]-1; 1[$ بـ : $k(x) = f(-|x|)$ و (\mathcal{C}_k) تمثيلها البياني في المعلم السابق

(أ) بيّن أنّ الدالة k زوجية

(ب) بيّن كيف يمكن استنتاج المنحنى (\mathcal{C}_k) انطلاقا من المنحنى (\mathcal{C}_f) ثمّ ارسمه (دون دراسة تغيّرات الدالة k)

(ج) ناقش بيانيا حسب قيم الوسيط حقيقي m عدد و إشارة حلول المعادلة : $k(x) = m$

تمرين 4

علوم - 2016 - الموضوع الثاني (6 نقاط)

الجزء الأول لتكن الدالة العددية g المعرفة على \mathbb{R} بـ: $g(x) = 2e^x - x^2 - x$ 1. (أ) احسب $g'(x)$ من أجل كل x من \mathbb{R} ، ثم ادرس اتجاه تغيّر الدالة g (حيث g هي مشتقة الدالة g')(ب) بيّن أنّه من أجل كل x من \mathbb{R} ، $g'(x) > 0$ (ج) احسب نهايتي الدالة g عند كل من $+\infty$ و $-\infty$ ، ثمّ شكّل جدول تغيّراتها2. بيّن أنّ المعادلة $g(x) = 0$ تقبل حلا وحيدا α حيث: $-1,38 < \alpha < -1,37$ 3. استنتج إشارة $g(x)$ حسب قيم العدد الحقيقي x الجزء الثاني لتكن f الدالة المعرفة على \mathbb{R} بـ:

$$f(x) = \frac{x^2 e^x}{e^x - x}$$

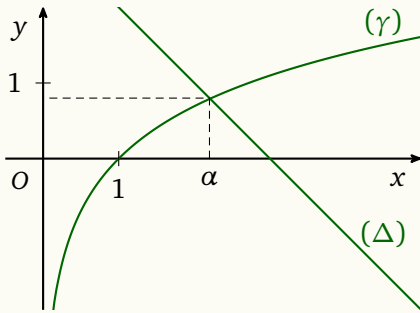
 (\mathcal{C}_f) هو تمثيلها البياني في المستوي المنسوب إلى المعلم المتعامد و المتجانس $(O; \vec{i}, \vec{j})$ 1. (أ) احسب $\lim_{x \rightarrow -\infty} f(x)$ و $\lim_{x \rightarrow +\infty} f(x)$ (ب) بيّن أنّه، من أجل كل x من \mathbb{R} ،

$$f'(x) = \frac{x e^x g(x)}{(e^x - x)^2}$$

(حيث f' هي الدالة المشتقة للدالة f)(ج) ادرس اتجاه تغيّر الدالة f على \mathbb{R} ، ثمّ شكّل جدول تغيّراتها2. (أ) بيّن أنّ $f(\alpha) = \alpha^2 + 2\alpha + 2 + \frac{2}{\alpha - 1}$ ، ثمّ استنتج حصرا للعدد $f(\alpha)$ (ب) احسب $\lim_{x \rightarrow +\infty} [f(x) - x^2]$ ، ثمّ فسر النتيجة بيانيا(ج) أنشئ المنحنى (\mathcal{C}_f) . (تعطى $f(\alpha) \approx 0,29$)

تمرين 5

علوم - 2015 - الموضوع الأول (6,5 نقاط)

المستوي منسوب إلى المعلم المتعامد و المتجانس $(O; \vec{i}, \vec{j})$ **الجزء الأول** (γ) التمثيل البياني للدالة $x \mapsto \ln x$ و (Δ) المستقيم ذو المعادلةفاصلة نقطة تقاطع (Δ) و (γ) هي $y = -x + 3$ ، α 1. بقراءة بيانية حدّد وضعية (γ) بالنسبة إلى (Δ) على $]0; +\infty[$ 2. الدالة المعرّفة على المجال $]0; +\infty[$ بـ $g(x) = x - 3 + \ln x$:استنتج حسب قيم x إشارة $g(x)$ 3. تحقق أنّ : $2,2 < \alpha < 2,3$ **الجزء الثاني** f الدالة المعرّفة على المجال $]0; +\infty[$ بـ :

$$f(x) = \left(1 - \frac{1}{x}\right)(\ln x - 2)$$

و (\mathcal{C}_f) تمثيلها البياني1. احسب $\lim_{x \rightarrow +\infty} f(x)$ و $\lim_{x \rightarrow 0^+} f(x)$ 2. أثبت أنّه من أجل كل عدد حقيقي x من $]0; +\infty[$: $f'(x) = \frac{g(x)}{x^2}$ ، ثمّ شكّل جدول تغيّرات الدالة f 3. بيّن أنّ : $f(\alpha) = \frac{-(\alpha - 1)^2}{\alpha}$ ، ثمّ استنتج حصراً للعدد $f(\alpha)$ 4. ادرس وضعية (\mathcal{C}_f) بالنسبة إلى حامل محور الفواصل، ثمّ أنشئ (\mathcal{C}_f) على المجال $]0; e^2]$ **الجزء الثالث** F الدالة الأصلية للدالة f على المجال $]0; +\infty[$ و التي تحقق : $F(1) = -3$ 1. بيّن أنّ منحنى الدالة F يقبل مماسين موازيين لحامل محور الفواصل في نقطتين يُطلب تعيين فاصلتيهما2. بيّن أنّ $x \mapsto \ln x - x$ هي دالة أصلية للدالة $x \mapsto \ln x$ على $]0; +\infty[$ ، ثمّ استنتج عبارة الدالة F

تمارين 6

علوم - 2015 - الموضوع الثاني (6 نقاط)

الجزء الأول g الدالة العددية المعرفة على \mathbb{R} بـ : $g(x) = 1 - 2x - e^{2x-2}$

1. ادرس اتجاه تغير الدالة g على \mathbb{R}
2. بين أن المعادلة $g(x) = 0$ تقبل حلا وحيدا α في \mathbb{R} ، ثم تحقق أن : $0,36 < \alpha < 0,37$
3. استنتج إشارة $g(x)$ على \mathbb{R}

الجزء الثاني f الدالة العددية المعرفة على \mathbb{R} بـ : $f(x) = xe^{2x+2} - x + 1$

و (\mathcal{C}_f) هو تمثيلها البياني في المستوي المنسوب إلى المعلم المتعامد و المتجانس $(O; \vec{i}, \vec{j})$

1. (ا) بين أنه من أجل كل عدد حقيقي x من \mathbb{R} : $f'(x) = e^{2x+2} g(-x)$
- (ب) استنتج أن الدالة f متناقصة تماما على المجال $]-\infty; -\alpha]$ و متزايدة تماما على $[-\alpha; +\infty[$
2. احسب نهاية f عند $+\infty$ و عند $-\infty$ ، ثم شكّل جدول تغيرات الدالة f
3. احسب $\lim_{x \rightarrow -\infty} [f(x) + x - 1]$ ثم فسّر النتيجة هندسيا
4. ادرس وضعية (\mathcal{C}_f) بالنسبة إلى المستقيم (Δ) الذي معادلته $y = -x + 1$
5. أنشئ (Δ) و (\mathcal{C}_f) على المجال $]-\infty; \frac{1}{2}]$ ، نأخذ $f(\alpha) \approx 0,1$
6. (ا) تحقق أنه من أجل كل x من \mathbb{R} : $2f(x) + f'(x) - f''(x) = 1 - 2x - 3e^{2x+2}$
- (ب) استنتج دالة أصلية للدالة f على \mathbb{R}

تمرين 7

علوم - 2014 - الموضوع الأول (6 نقاط)

نعتبر الدالة f المعرفة على المجال $]0; +\infty[$ بما يلي :

$$f(x) = 1 + \frac{2 \ln x}{x}$$

 (\mathcal{C}_f) هو تمثيلها البياني في المستوي المنسوب إلى المعلم المتعامد و المتجانس $(O; \vec{i}, \vec{j})$ 1. (أ) احسب $\lim_{x \rightarrow +\infty} f(x)$ و $\lim_{x \rightarrow 0^+} f(x)$ ، فسر النتيجة هندسيا(ب) ادرس اتجاه تغيّر الدالة f على المجال $]0; +\infty[$ شكل جدول تغيّراتها2. (أ) ادرس وضعية المنحنى (\mathcal{C}_f) بالنسبة إلى المستقيم (Δ) الذي معادلته $y = 1$ (ب) اكتب معادلة للمماس (T) للمنحنى (\mathcal{C}_f) في النقطة ذات الفاصلة 1(ج) بيّن أنّ المعادلة $f(x) = 0$ تقبل في المجال $]1; 2[$ حلا وحيدا α ، حيث $e^{-0,4} < \alpha < e^{-0,3}$ 3. أنشئ (T) و (\mathcal{C}_f) 4. لتكن الدالة h المعرفة على $\mathbb{R} - 0$ بما يلي :

$$h(x) = 1 + \frac{2 \ln |x|}{|x|}$$

و ليكن (\mathcal{C}_h) تمثيلها البياني في نفس المعلم السابق.(أ) بيّن أنّه من أجل كل عدد حقيقي x غير معدوم، $h(x) - h(-x) = 0$. ماذا تستنتج ؟(ب) أنشئ المنحنى (\mathcal{C}_h) إعتادا على المنحنى (\mathcal{C}_f) (ج) ناقش بيانيا، حسب قيم الوسيط الحقيقي m ، عدد حلول المعادلة : $\ln x^2 = (m - 1)|x|$

تمارين 8

علوم - 2014 - الموضوع الثاني (7 نقاط)

الجزء الأول لتكن g الدالة العددية المعرفة على \mathbb{R} كما يلي : $g(x) = 2x^3 - 4x^2 + 7x - 4$

1. (أ) احسب $\lim_{x \rightarrow -\infty} g(x)$ و $\lim_{x \rightarrow +\infty} g(x)$

(ب) ادرس اتجاه تغيير الدالة g على \mathbb{R} ثم شكل جدول تغييراتها

2. (أ) بين أن المعادلة $g(x) = 0$ تقبل حلا وحيدا α حيث $0,7 < \alpha < 0,8$

(ب) استنتج حسب قيم العدد الحقيقي x إشارة $g(x)$

الجزء الثاني نعتبر الدالة العددية f المعرفة على \mathbb{R} كما يلي :

$$f(x) = \frac{x^3 - 2x + 1}{2x^2 - 2x + 1}$$

(\mathcal{C}_f) هو تمثيلها البياني في المستوي المنسوب إلى المعلم المتعامد و المتجانس ($O; \vec{i}, \vec{j}$)

1. احسب $\lim_{x \rightarrow -\infty} f(x)$ و $\lim_{x \rightarrow +\infty} f(x)$

2. (أ) بين أنه من أجل كل x من \mathbb{R} :

$$f(x) = \frac{1}{2}(x+1) + \frac{1-3x}{2(2x^2-2x+1)}$$

(ب) استنتج أن المنحنى (\mathcal{C}_f) يقبل مستقيما مقاربا مائلا (Δ) يُطلب تعيين معادلة له

(ج) ادرس الوضع النسبي للمنحنى (\mathcal{C}_f) و (Δ)

3. (أ) بين أنه من أجل كل x من \mathbb{R} :

$$f'(x) = \frac{x g(x)}{(2x^2 - 2x + 1)^2}$$

حيث f' مشتقة الدالة f

(ب) استنتج إشارة $f'(x)$ حسب قيم x ثم شكل جدول تغييرات الدالة f . (نأخذ $f(\alpha) \approx -0,1$)

4. احسب $f(1)$ ثم حل في \mathbb{R} المعادلة $f(x) = 0$

5. أنشئ المستقيم (Δ) و المنحنى (\mathcal{C}_f)

6. لتكن الدالة h المعرفة على \mathbb{R} كما يلي :

$$h(x) = \frac{x^3 - 4x^2 + 2x - 1}{2x^2 - 2x + 1}$$

و (\mathcal{C}_h) تمثيلها البياني في المعلم السابق

(أ) تحقق أنه من أجل كل x من \mathbb{R} : $h(x) = f(x) - 2$

(ب) استنتج أن (\mathcal{C}_h) هو صورة (\mathcal{C}_f) بتحويل نقطي بسيط يطلب تعيينه، ثم أنشئ (\mathcal{C}_h)

تمرين 9

علوم - 2013 - الموضوع الأول (6,5 نقاط)

الجزء الأول f الدالة العددية المعرفة على $]1; +\infty[$ بـ :

$$f(x) = \frac{x}{x-1} + e^{\frac{1}{x-1}}$$

و (\mathcal{C}_f) هو تمثيلها البياني في المستوى المنسوب إلى المعلم المتعامد و المتجانس $(O; \vec{i}, \vec{j})$

x	$f(x)$
0,20	0,037
0,21	0,016
0,22	-0,005
0,23	-0,026
0,24	-0,048
0,25	-0,070

- احسب $\lim_{x \rightarrow -\infty} f(x)$ و $\lim_{x \rightarrow 1} f(x)$ ، ثم استنتج المستقيمين المقاربيين للمنحنى (\mathcal{C}_f)
- احسب $f'(x)$. بين أن الدالة f متناقصة تماما على المجال $]1; +\infty[$ ، ثم شكّل جدول تغيّراتها
- بين أن المعادلة $f(x) = 0$ تقبل في $]1; +\infty[$ حلا وحيدا α . باستعمال جدول القيم المقابل جد حصرا للعدد α
- ارسم المستقيمين المقاربيين و المنحنى (\mathcal{C}_f) ، ثم ارسم المنحنى (\mathcal{C}') الممثل للدالة $|f|$
- عيّن بيانيا مجموعة قيم الأعداد الحقيقية m التي من أجلها يكون للمعادلة $|f(x)| = m$ حلان مختلفان في الإشارة

الجزء الثاني g الدالة المعرفة على $]1; +\infty[$ بـ : $g(x) = f(2x-1)$. (عبارة $g(x)$ غير مطلوبة)

- ادرس تغيّرات الدالة g على $]1; +\infty[$ ، ثم شكّل جدول تغيّراتها
- (أ) تحقق من أن : $g\left(\frac{\alpha+1}{2}\right) = 0$ ، ثم بين أن : $g'\left(\frac{\alpha+1}{2}\right) = 2f'(\alpha)$
- (ب) استنتج معادلة (T) المماس لمنحنى الدالة g في النقطة ذات الفاصلة $\frac{\alpha+1}{2}$
- (ج) تحقق من أن : $y = \frac{2}{(\alpha-1)^3}x - \frac{\alpha+1}{(\alpha-1)^3}$ ، معادلة للمستقيم (T)

تمرين 10

علوم - 2013 - الموضوع الثاني (7 نقاط)

الجزء الأول g الدالة المعرفة على المجال $]-1; +\infty[$ بـ : $g(x) = x^2 + 2x + 4 - 2\ln(x+1)$

1. ادرس تغيّرات الدالة g ، ثمّ شكل جدول تغيّراتها
2. استنتج أنّه، من أجل كل x من المجال $]-1; +\infty[$ ، $g(x) > 0$ ،

الجزء الثاني f هي الدالة المعرفة على المجال $]-1; +\infty[$ بـ :

$$f(x) = x - \frac{1 - 2\ln(x+1)}{x+1}$$

و (\mathcal{C}_f) هو تمثيلها البياني في المستوي المنسوب إلى المعلم المتعامد و المتجانس $(O; \vec{i}, \vec{j})$. (وحدة الطول 2 cm)

1. (ا) احسب $\lim_{x \rightarrow -1} f(x)$. فسّر النتيجة بيانياً

(ب) احسب $\lim_{x \rightarrow +\infty} f(x)$

2. (ا) بيّن أنّه، من أجل كل x من $]-1; +\infty[$ ،

$$f'(x) = \frac{g(x)}{(x+1)^2}$$

حيث f' هي مشتقة الدالة f

- (ب) ادرس اتجاه تغيّر الدالة f على المجال $]-1; +\infty[$ ، ثمّ شكل جدول تغيّراتها
- (ج) بيّن أنّ المعادلة $f(x) = 0$ تقبل حلاً وحيداً α في المجال $]-1; +\infty[$ ، ثمّ تحقق أنّ $0 < \alpha < 0,5$
3. (ا) بيّن أنّ المستقيم (Δ) ذا المعادلة $y = x$ مقارب مائل للمنحنى (\mathcal{C}_f) عند $+\infty$
- (ب) ادرس وضعية المنحنى (\mathcal{C}_f) بالنسبة إلى (Δ)
4. نقبل أنّ المستقيم (T) ذا المعادلة : $y = x + \frac{2}{\sqrt{e^3}}$ ، مماس للمنحنى (\mathcal{C}_f) في نقطة قاصلتها x_0
- (ا) احسب x_0

(ب) ارسم المستقيمين المقاربين و المماس (T) ثمّ المنحنى (\mathcal{C}_f)

(ج) عيّن بيانياً قيم الوسيط الحقيقي m بحيث تقبل المعادلة $f(x) = x + m$ حلين متمايزين

تمرين 11

علوم - 2012 - الموضوع الأول (7 نقاط)

لتكن f الدالة المعرفة على المجال $]0; +\infty[$ كما يلي :

$$f(x) = x + 5 + 6 \ln\left(\frac{x}{x-1}\right)$$

(\mathcal{C}_f) هو تمثيلها البياني في المستوي المنسوب إلى المعلم المتعامد و المتجانس (\vec{i}, \vec{j})

1. (أ) احسب $\lim_{x \rightarrow 0} f(x)$ ، ثم فسر النتيجة هندسيا

(ب) احسب $\lim_{x \rightarrow +\infty} f(x)$

2. بين أنه من أجل كل عدد حقيقي x من $]0; +\infty[$ ،

$$f'(x) = \frac{x^2 - x - 6}{x(x-1)}$$

استنتج اتجاه تغير الدالة f ، ثم شكل جدول تغيراتها

3. (أ) بين أن المستقيم (Δ) الذي معادلة له : $y = x + 5$ هو مستقيم مقارب مائل للمنحنى (\mathcal{C}_f) بجوار $-\infty$

(ب) ادرس وضع المنحنى (\mathcal{C}_f) بالنسبة للمستقيم (Δ)

4. بين أن المعادلة $f(x) = 0$ تقبل حلين α و β حيث $-3,5 < \alpha < -3,4$ و $-1,1 < \beta < -1$

5. أنشئ المنحنى (\mathcal{C}_f) و المستقيم (Δ)

6. (أ) نعتبر النقطتين $A\left(-1; 3 + 6 \ln\left(\frac{3}{4}\right)\right)$ و $B\left(-2; \frac{5}{2} + 6 \ln\left(\frac{3}{4}\right)\right)$

بين أن $y = \frac{1}{2}x + \frac{7}{2} + 6 \ln \frac{3}{4}$ معادلة ديكارتية للمستقيم (AB)

(ب) بين أن المستقيم (AB) يمس المنحنى (\mathcal{C}_f) في نقطة M_0 يطلب تعيين إحداثياتها

7. لتكن g الدالة المعرفة على $]0; +\infty[$ كما يلي :

$$g(x) = \frac{x^2}{2} + 5x + 6x \ln\left(\frac{x}{x-1}\right) + 6 \ln(1-x)$$

بين أن g دالة أصلية للدالة f على المجال $]0; +\infty[$

تمرين 12

علوم - 2012 - الموضوع الثاني (7 نقاط)

الجزء الأول لتكن g الدالة المعرفة على \mathbb{R} كما يلي : $g(x) = 1 - xe^x$

1. احسب $\lim_{x \rightarrow -\infty} g(x)$ و $\lim_{x \rightarrow +\infty} g(x)$

2. ادرس اتجاه تغير الدالة g ، ثم شكل جدول تغيراتها

3. (ا) بيّن أنّ المعادلة $g(x) = 0$ تقبل حلا وحيدا α على المجال $[-1; +\infty[$

(ب) تحقق أنّ $0,5 < \alpha < 0,6$ ، ثم استنتج إشارة $g(x)$ على \mathbb{R}

الجزء الثاني نعتبر الدالة f المعرفة على المجال $]-\infty; 2]$ كما يلي : $f(x) = (x-1)e^x - x - 1$

(\mathcal{C}_f) هو تمثيلها البياني في المستوي المنسوب إلى المعلم المتعامد و المتجانس ($O; \vec{i}, \vec{j}$)

1. احسب $\lim_{x \rightarrow -\infty} f(x)$

2. لتكن f' مشتقة الدالة f . بيّن أنّه من أجل كل عدد حقيقي x من \mathbb{R} فإنّ : $f'(x) = -g(x)$

استنتج إشارة $f'(x)$ على المجال $]-\infty; 2]$ ، ثم شكّل جدول تغيرات الدالة f

3. بيّن أنّ $f(\alpha) = -\left(\frac{\alpha^2 + 1}{\alpha}\right)$ ، ثم استنتج حصرا للعدد $f(\alpha)$. (تدور النتائج إلى 10^{-2})

4. (ا) بيّن أنّ المستقيم (Δ) ذا المعادلة $y = -x - 1$ هو مستقيم مقارب مائل للمنحنى (\mathcal{C}_f) بجوار $-\infty$

(ب) ادرس وضعية المنحنى (\mathcal{C}_f) بالنسبة إلى (Δ)

5. (ا) بيّن أنّ المعادلة $f(x) = 0$ تقبل حلين x_1 و x_2 حيث $-1,6 < x_1 < -1,5$ و $1,5 < x_2 < 1,6$

(ب) أنشئ (Δ) و (\mathcal{C}_f)

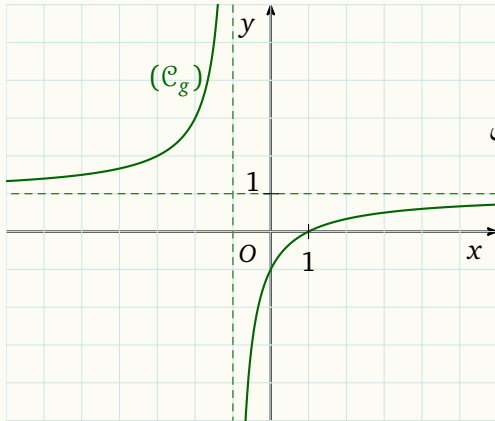
6. لتكن h الدالة المعرفة على \mathbb{R} كما يلي : $h(x) = (ax + b)e^x$

(ا) عيّن العددين الحقيقيين a و b بحيث تكون h دالة أصلية للدالة $x \mapsto xe^x$ على \mathbb{R}

(ب) استنتج دالة أصلية للدالة g على \mathbb{R}

تمرين 13

علوم - 2011 - الموضوع الأول (7 نقاط)



الجزء الأول نعتبر الدالة g المعرفة على $\mathbb{R} - \{-1\}$ بـ : $g(x) = \frac{x-1}{x+1}$

(C_g) هو تمثيلها البياني في المستوي المنسوب إلى المعلم المتعامد و المتجانس $(O; \vec{i}, \vec{j})$ (الشكل المقابل) . بقراءة بيانية :

1. شكل جدول تغيّرات الدالة g
2. حل بيانيا المتراجحة $g(x) > 0$
3. عيّن بيانيا قيم x التي يكون من أجلها $0 < g(x) < 1$

الجزء الثاني لتكن الدالة f المعرفة على المجال $]1; +\infty[$ بـ :

$$f(x) = \frac{x-1}{x+1} + \ln\left(\frac{x-1}{x+1}\right)$$

و (C_f) هو تمثيلها البياني في المستوي المنسوب إلى المعلم المتعامد و المتجانس $(O; \vec{i}, \vec{j})$

1. احسب $\lim_{x \rightarrow 1} f(x)$ و $\lim_{x \rightarrow +\infty} f(x)$ ثم فسر النتيجةن هندسيا
2. (أ) بيّن أنّه من أجل كل عدد حقيقي x من المجال $]1; +\infty[$ ، $g'(x) = \frac{2}{(x+1)^2}$ ،
- (ب) احسب $f'(x)$ و ادرس إشارتها ثم شكّل جدول تغيّرات الدالة f
3. (أ) باستعمال الجزء الأول السؤال 3 ، عيّن إشارة العبارة $\ln\left(\frac{x-1}{x+1}\right)$ على المجال $]1; +\infty[$
- (ب) α عدد حقيقي .

بيّن أنّ الدالة $x \mapsto (x-\alpha)\ln(x-\alpha) - x$ هي دالة أصلية للدالة $x \mapsto \ln(x-\alpha)$ على المجال $]\alpha; +\infty[$

(ج) تحقق أنّه من أجل كل عدد حقيقي x من المجال $]1; +\infty[$ ، $g(x) = 1 - \frac{2}{x+1}$ ، ثم عيّن دالة أصلية للدالة f على

المجال $]1; +\infty[$

تمرين 14

علوم - 2011 - الموضوع الثاني (7 نقاط)

نعتبر الدالة العددية f المعرفة على \mathbb{R} بـ : $f(x) = e^x - ex - 1$

(\mathcal{C}_f) هو تمثيلها البياني في المستوى المنسوب إلى المعلم المتعامد و المتجانس ($O; \vec{i}, \vec{j}$)

1. (أ) احسب $\lim_{x \rightarrow +\infty} f(x)$ و $\lim_{x \rightarrow -\infty} f(x)$

(ب) احسب $f'(x)$ ثم ادرس إشارتها

(ج) شكّل جدول تغيّرات الدالة f

2. (أ) بيّن أنّ المستقيم (Δ) ذو المعادلة $y = -ex - 1$ مقارب مائل للمنحنى (\mathcal{C}_f) بجوار $-\infty$

(ب) اكتب معادلة للمستقيم (T) مماس المنحنى (\mathcal{C}_f) في النقطة ذات الفاصلة 0

(ج) بيّن أنّ المعادلة $f(x) = 0$ تقبل في المجال $]1,75; 1,76[$ حلا وحيدا α

(د) ارسم المستقيمين (Δ) و (T) ثم المنحنى (\mathcal{C}_f) على المجال $]-\infty; 2]$

3. (أ) احسب بدلالة α ، المساحة $A(\alpha)$ للحيز المستوي المحدد بالمنحنى (\mathcal{C}_f) و حامل محول الفواصل و المستقيمين

اللذين معادلتيهما : $x = \alpha$ و $x = 0$

(ب) أثبت أنّ : $A(\alpha) = \left(\frac{1}{2}e\alpha^2 - e\alpha + \alpha\right) ua$ (ua هي وحدة المساحات)

تمرين 15

علوم - 2010 - الموضوع الأول (10 نقاط)

الجزء الأول لتكن f الدالة العددية المعرفة على المجال $I =]\frac{1}{2}; +\infty[$ بـ: $f(x) = 1 + \ln(2x - 1)$

و (\mathcal{C}_f) هو تمثيلها البياني في المستوي المنسوب إلى المعلم المتعامد و المتجانس $(O; \vec{i}, \vec{j})$

1. احسب $\lim_{x \rightarrow \frac{1}{2}} f(x)$ و $\lim_{x \rightarrow +\infty} f(x)$

2. بيّن أنّ الدالة f متزايدة تماما على المجال I ثمّ شكل جدول تغيّراتها

3. عيّن فاصلة النقطة من (\mathcal{C}_f) التي يكون فيها المماس موازيا للمستقيم (d) ذي المعادلة $y = x$

4. (ا) أثبت أنّه من أجل كل x من I يمكن كتابة $f(x)$ على الشكل: $f(x) = \ln(x + a) + b$ حيث a, b عدنان حقيقيان

يطلب تعيينهما

(ب) استنتج أنّه يمكن رسم (\mathcal{C}_f) انطلاقا من (c) منحنى الدالة اللوغارتمية النيبيرية \ln ثمّ ارسم (c) و (\mathcal{C}_f)

الجزء الثاني نعتبر الدالة العددية f المعرفة على المجال I بـ: $g(x) = f(x) - x$

1. احسب $\lim_{x \rightarrow \frac{1}{2}} g(x)$ ثمّ بيّن أنّ $\lim_{x \rightarrow -\infty} g(x) = -\infty$

2. ادرس اتجاه تغيّر الدالة g على I ثمّ شكل جدول تغيّراتها

3. (ا) احسب $g(1)$ ثمّ بيّن أنّ المعادلة $g(x) = 0$ تقبل في المجال $]\frac{3}{2}; +\infty[$ حلا وحيدا α . تحقق أنّ $2 < \alpha < 3$

(ب) ارسم (\mathcal{C}_g) منحنى الدالة g على المجال $]\frac{1}{2}; 5[$ في المعلم السابق

4. استنتج إشارة $g(x)$ على المجال I ثمّ حدّد وضعية المنحنى (\mathcal{C}_f) بالنسبة إلى (d)

5. برهن أنّه من أجل كل عدد حقيقي x من المجال $]\alpha; 1[$ فإنّ $f(x)$ ينتمي إلى المجال $]\alpha; 1[$

الجزء الثالث نسمي (u_n) المتتالية العددية المعرفة على \mathbb{N}^* كما يلي: $u_n = f\left(1 + \frac{1}{2n}\right)$

1. عيّن قيمة العدد الطبيعي n التي من أجلها يكون $u_n = 1 + 2 \ln 3 - 3 \ln 2$

2. احسب بدلالة n المجموع S_n حيث: $S_n = u_1 + u_2 + \dots + u_n$

تمرين 16

علوم - 2010 - الموضوع الثاني (7 نقاط)

نعتبر الدالة العددية f المعرفة على \mathbb{R}^* كما يلي :

$$f(x) = x - \frac{1}{e^x - 1}$$

(\mathcal{C}_f) هو تمثيلها البياني في المستوى المنسوب إلى المعلم المتعامد و المتجانس $(O; \vec{i}, \vec{j})$

1. (ا) احسب $\lim_{x \rightarrow +\infty} f(x)$ و $\lim_{x \rightarrow -\infty} f(x)$

(ب) احسب $\lim_{x \rightarrow 0^+} f(x)$ و $\lim_{x \rightarrow 0^-} f(x)$ و فسر هندسيا النتيجة

2. ادرس اتجاه تغير الدالة f على مجال من مجالي تعريفها ثم شكل جدول تغيراتها

3. (ا) بين أن المنحنى (\mathcal{C}_f) يقبل مستقيمين مقاربين مائلين (Δ) و (Δ') معادلتيهما على الترتيب : $y = x + 1$ و $y = x$

(ب) ادرس وضعية (\mathcal{C}_f) بالنسبة إلى كل من (Δ) و (Δ')

4. أثبت أن النقطة $\omega \left(0; \frac{1}{2}\right)$ هي مركز تناظر للمنحنى (\mathcal{C}_f)

5. (ا) بين أن المعادلة $f(x) = 0$ تقبل حلين α و β حيث : $\ln 2 < \alpha < 1$ و $-1,4 < \beta < -1,3$

(ب) هل توجد مماسات لـ (\mathcal{C}_f) توازي المستقيم (Δ) ؟

(ج) ارسم (Δ) ، (Δ') ثم المنحنى (\mathcal{C}_f)

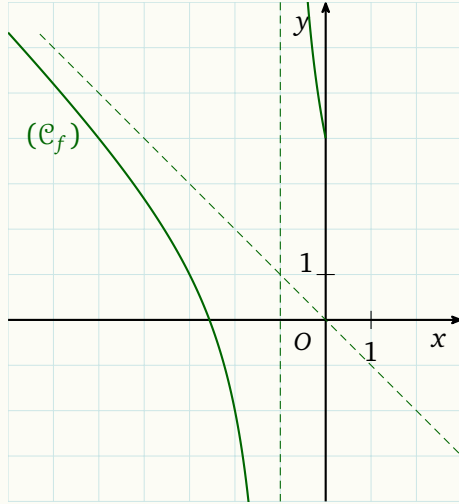
(د) ناقش بيانيا حسب قيم الوسيط الحقيقي m عدد و إشارة حلول المعادلة : $(m-1)e^{-x} = m$

تمرين 17

علوم - 2009 - الموضوع الأول (7,5 نقاط)

الجزء الأول f دالة معرفة على $I =]-\infty; -1[\cup]-1; 0]$ بـ :

$$f(x) = -x + \frac{4}{x+1}$$



(C_f) هو تمثيلها البياني في المستوي المنسوب إلى المعلم المتعامد و المتجانس $(O; \vec{i}, \vec{j})$ كما هو مبين في الشكل

1. (أ) احسب نهايات الدالة f عند الحدود المفتوحة لـ I

(ب) بقراءة بيانية و دون دراسة اتجاه تغيّرات f شكّل جدول تغيّراتها

2. g دالة معرفة على المجال $[0; +\infty[$ كما يلي : $g(x) = x + \frac{4}{x+1}$

(C_g) هو تمثيلها البياني في المستوي المنسوب إلى المعلم المتعامد و

المتجانس $(O; \vec{i}, \vec{j})$

(أ) احسب نهاية g عند $+\infty$

(ب) تحقق من أنّ (C_g) يقبل مستقيما مقاربا مائلا (Δ) عند $+\infty$ يطلب

تعيين معادلة له

(ج) ادرس تغيّرات g

الجزء الثاني k دالة معرفة على $\mathbb{R} - \{-1\}$ كما يلي :

$$k(x) = |x| + \frac{4}{x+1}$$

1. (أ) احسب $\lim_{h \rightarrow 0} \frac{k(h) - k(0)}{h}$ و $\lim_{h \rightarrow 0} \frac{k(h) - k(0)}{h}$ ماذا تستنتج ؟

(ب) أعط تفسيراً هندسياً لهذه النتيجة

2. اكتب معادلتى المماسين (Δ_1) و (Δ_2) عند النقطة التي فاصلتها $x_0 = 0$

3. ارسم (Δ_1) ، (Δ_2) و (C_k)

4. احسب مساحة الحيز المستوي المحدد بالمنحنى (C_k) و المستقيمت التي معادلاتها : $x = -\frac{1}{2}$ ، $x = \frac{1}{2}$ ، $y = 0$

تمرين 18

علوم - 2009 - الموضوع الثاني (7 نقاط)

الجزء الأول h دالة عددية معرفّة على $]-1; +\infty[$ كما يلي :

$$h(x) = x^2 + 2x + \ln(x + 1)$$

1. احسب $\lim_{x \rightarrow +\infty} h(x)$ و $\lim_{x \rightarrow -1} h(x)$ 2. بيّن أنّه من أجل كل عدد حقيقي x من المجال $]-1; +\infty[$:

$$h'(x) = \frac{1 + 2(x + 1)^2}{x + 1}$$

و استنتج اتجاه تغيّر الدالة h ثمّ أنجز جدول تغيّراتها3. احسب $h(0)$ و استنتج إشارة $h(x)$ حسب قيم x الجزء الثاني لتكن f دالة معرفّة على $]-1; +\infty[$ كما يلي :

$$f(x) = x - 1 - \frac{\ln(x + 1)}{x + 1}$$

 (\mathcal{C}_f) هو تمثيلها البياني في المستوي المنسوب إلى المعلم المتعامد و المتجانس $(O; \vec{i}, \vec{j})$ 1. (ا) احسب $\lim_{x \rightarrow -1} f(x)$ ثمّ فسر النتيجة بيانياً(ب) باستعمال النتيجة $\lim_{t \rightarrow +\infty} \frac{e^t}{t} = +\infty$ ، برهن أنّ $\lim_{u \rightarrow +\infty} \frac{\ln u}{u} = 0$ (ج) استنتج $\lim_{x \rightarrow +\infty} f(x)$ (د) احسب $\lim_{x \rightarrow +\infty} [f(x) - (x - 1)]$ و استنتج وجود مستقيم مقارب مائل للمنحنى (\mathcal{C}_f) (هـ) ادرس وضعية المنحنى (\mathcal{C}_f) بالنسبة إلى المستقيم المقارب المائل2. بيّن أنّه من أجل كل x من المجال $]-1; +\infty[$ ،

$$f'(x) = \frac{h(x)}{(x + 1)^2}$$

ثمّ شكل جدول تغيّرات الدالة f 3. بيّن أنّ المنحنى (\mathcal{C}_f) يقطع المستقيم ذو المعادلة $y = 2$ عند نقطة فاصلتها محصورة بين 3,3 و 3,44. أرسم (\mathcal{C}_f) 5. احسب مساحة الحيزّ المستوي المحدود بالمنحنى (\mathcal{C}_f) و المستقيمت التي معادلاتها : $y = x - 1$ ، $x = 0$ و $x = 1$

تمرين 19

علوم - 2008 - الموضوع الأول (7,5 نقاط)

الجزء الأول نعتبر الدالة العددية للمتغير الحقيقي x المعرفة على المجال $[-2; +\infty[$ بـ :

$$f(x) = (ax + b)e^{-x} + 1$$

حيث a و b عددان حقيقيان

(\mathcal{C}_f) هو تمثيلها البياني في المستوي المنسوب إلى المعلم المتعامد و المتجانس ($O; \vec{i}, \vec{j}$) (وحدة الطول 1 cm)

عُيِّن قيمتي a و b بحيث تكون النقطة $A(-1; 1)$ تنتمي إلى (\mathcal{C}_f) و معامل توجيه المماس عند A يساوي $-e$

الجزء الثاني نعتبر الدالة العددية g للمتغير الحقيقي x المعرفة على المجال $[-2; +\infty[$ كما يلي :

$$g(x) = (-x - 1)e^{-x} + 1$$

و (\mathcal{C}_g) تمثيلها البياني في نفس المعلم السابق.

1. بيِّن أنّ $\lim_{x \rightarrow +\infty} g(x) = 1$ و فسر النتيجة بيانياً . (نذكر أنّ $\lim_{u \rightarrow -\infty} ue^u = 0$)

2. ادرس تغيّرات الدالة g ، ثمّ أنشئ جدول تغيّراتها

3. بيِّن أنّ المنحنى (\mathcal{C}_g) يقبل نقطة انعطاف I يطلب تعيين إحداثياتها

4. اكتب معادلة المماس للمنحنى (\mathcal{C}_g) عند النقطة I

5. ارسم (\mathcal{C}_g)

6. الدالة العددية المعرفة على $[-2; +\infty[$ بـ : $H(x) = (ax + \beta)e^{-x}$ حيث a و β عددان حقيقيان.

عُيِّن a و β بحيث تكون H دالة أصلية للدالة $g(x) - 1$

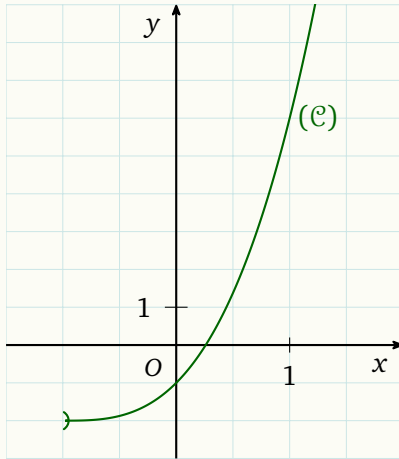
استنتج الدالة الأصلية للدالة g و التي تتعدم عند القيمة 0

الجزء الثالث لتكن k الدالة المعرفة على المجال $[-2; +\infty[$ بـ : $k(x) = g(x^2)$

باستعمال مشتقة دالة مركبة، عيّن اتجاه تغيّر الدالة k ثمّ شكل جدول تغيّراتها

تمرين 20

علوم - 2008 - الموضوع الثاني (7 نقاط)



المنحنى (C) المقابل هو التمثيل البياني للدالة العددية g المعرفة على المجال $]-1; +\infty[$ كما يأتي :

$$g(x) = x^3 + 3x^2 + 3x - 1$$

1. (أ) بقراءة بيانية شكّل جدول تغيّرات الدالة g وحدّد $g(0)$ وإشارة $g\left(\frac{1}{2}\right)$

(ب) علّل وجود عدد حقيقي α من المجال $]\frac{1}{2}; 0]$ يحقق $g(\alpha) = 0$

(ج) استنتج إشارة $g(x)$ على المجال $]-1; +\infty[$

2. f هي الدالة العددية المعرفة على المجال $]-1; +\infty[$ بما يلي :

$$f(x) = \frac{x^3 + 3x^2 + 3x + 2}{(x+1)^2}$$

و ليكن (Γ) تمثيلها البياني في معلم متعامد $(O; \vec{i}, \vec{j})$

(أ) تحقق أنّه من أجل كل عدد حقيقي x من المجال $]-1; +\infty[$:

$$f'(x) = \frac{g(x)}{(x+1)^2}$$

حيث f' هي الدالة المشتقة للدالة f

(ب) عيّن دون حساب $\lim_{x \rightarrow \alpha} \frac{f(x) - f(\alpha)}{x - \alpha}$ وفسّر النتيجة بيانيا

(ج) احسب $\lim_{x \rightarrow -1} f(x)$ و $\lim_{x \rightarrow +\infty} [f(x) - (x+1)]$ وفسّر النتيجتين بيانيا

(د) شكّل جدول تغيّرات الدالة f

3. نأخذ $\alpha \approx 0,26$

(أ) عيّن مدوّر $f(\alpha)$ إلى 10^{-2}

(ب) ارسم المنحنى (Γ)

4. (أ) اكتب $f(x)$ على الشكل $f(x) = x + a + \frac{b}{(x+1)^2}$ ، حيث a و b عدنان حقيقيان

(ب) عيّن الدالة الأصلية للدالة على المجالة $]-1; +\infty[$ والتي تحقق $F(1) = 2$

شعبة تقني رياضي

تمرين 21

تقني رياضي - 2017 - الموضوع الأول (7 نقاط)

لتكن الدالة العددية f المعرفة على $D_f =]-\infty; 1[\cup]2; +\infty[$ حيث $D_f =]-\infty; 1[\cup]2; +\infty[$ كما يلي :

$$f(x) = -2x + 3 + 2\ln\left(\frac{x-1}{x-2}\right)$$

(\mathcal{C}_f) هو تمثيلها البياني في المستوى المنسوب إلى المعلم المتعامد و المتجانس $(O; \vec{i}, \vec{j})$

1. (أ) احسب النهايتين : $\lim_{x \rightarrow 2^-} f(x)$ ، $\lim_{x \rightarrow 1^+} f(x)$ ، ثم فسّر النتيجةين بيانياً

(ب) احسب $\lim_{x \rightarrow +\infty} f(x)$ و $\lim_{x \rightarrow -\infty} f(x)$

2. بين أنه من أجل كل x من D_f ، $f'(x) = -2 - \frac{2}{(x-1)(x-2)}$ ، ثم شكّل جدول تغييرات الدالة f

3. (أ) تحقق أن : من أجل كل عدد حقيقي x من D_f ، D_f ، $(3-x) \in D_f$ و $f(3-x) + f(x) = 0$

(ب) استنتج أن (\mathcal{C}_f) يقبل مركز تناظر يُطلب تعيين إحاثيه

4. بين أن المعادلة $f(x) = 0$ تقبل حلاً وحيداً α على المجال $]0,45; 0,46[$ ثم استنتج أنها تقبل حلاً آخر β يطلب تعيين

حصر له

5. بين أن المستقيم (Δ) ذا المعادلة $y = -2x + 3$ مقارب مائل لـ (\mathcal{C}_f) ، ثم ادرس وضعية (\mathcal{C}_f) بالنسبة لـ (Δ)

6. ارسم (Δ) و (\mathcal{C}_f)

7. بين أن الدالة : $x \mapsto (x-1)\ln(x-1) - (x-2)\ln(x-2)$ أصلية للدالة $x \mapsto \ln\left(\frac{x-1}{x-2}\right)$ على $]2; +\infty[$

ثم احسب بدلالة β مساحة الحيز المستوي المحدد بالمنحني (\mathcal{C}_f) و المستقيمت التي معادلاتها : $y = -2x + 3$ ،

$x = \beta$ و $x = 3$

تمرين 22

تقني رياضي - 2017 - الموضوع الثاني (7 نقاط)

الجزء الأول نعتبر الدالة العددية g المعرفة على \mathbb{R} كما يلي : $g(x) = x^3 + 6x + 12$

1. ادرس اتجاه تغير الدالة g

2. بين أن المعادلة $g(x) = 0$ تقبل حلا وحيدا α حيث $\alpha \in]-1,48; -1,47[$ ثم استنتج حسب قيم العدد الحقيقي x إشارة

$$g(x)$$

الجزء الثاني نعتبر الدالة العددية f المعرفة على \mathbb{R} كما يلي :

$$f(x) = \frac{x^3 - 6}{x^2 + 2}$$

(\mathcal{C}_f) هو تمثيلها البياني في المستوي المنسوب إلى المعلم المتعامد و المتجانس $(O; \vec{i}, \vec{j})$

1. (ا) احسب $\lim_{x \rightarrow +\infty} f(x)$ و $\lim_{x \rightarrow -\infty} f(x)$

(ب) بين أن من أجل كل عدد حقيقي x ، $f'(x) = \frac{xg(x)}{(x^2 + 2)^2}$ ،

ثم ادرس اتجاه تغير الدالة f و شكل جدول تغيراتها

2. (ا) بين أن المستقيم (Δ) ذا المعادلة $y = x$ مقارب مائل للمنحنى (\mathcal{C}_f)

(ب) ادرس وضعية المنحنى (\mathcal{C}_f) بالنسبة إلى المستقيم (Δ)

3. بين أن $f(\alpha) = \frac{3}{2}\alpha$ ثم استنتج حصرا للعدد $f(\alpha)$

4. ارسم المستقيم (Δ) و المنحنى (\mathcal{C}_f)

5. نرمز بـ S إلى مساحة الحيز المستوي المحدد بالمنحنى (\mathcal{C}_f) و المستقيمت التي معادلاتها : $x = \alpha$ ، $x = 0$ و $y = 0$

أثبت أن : من أجل كل $x \in [\alpha; 0]$ ، $-3 \leq f(x) \leq f(\alpha)$ ، ثم بين أن : $\frac{3}{2}\alpha^2 \leq S \leq -3\alpha$

تمرين 23

تقني رياضي - 2016 - الموضوع الأول (7 نقاط)

الجزء الأول g هي الدالة المعرفة على $]-1; +\infty[$ بما يلي :

$$g(x) = \frac{x-1}{x+1} + \ln(x+1)$$

1. (أ) احسب $\lim_{x \rightarrow +\infty} g(x)$ و $\lim_{x \rightarrow -1^+} g(x)$ (ب) ادرس اتجاه تغير الدالة g على المجال $]-1; +\infty[$ ثم شكل جدول تغيراتها
2. (أ) بيّن أنّ المعادلة $g(x) = 0$ تقبل حلا وحيدا α حيث $0,4 < \alpha < 0,5$ (ب) استنتج إشارة $g(x)$ على المجال $]-1; +\infty[$

الجزء الثاني f هي الدالة المعرفة على $]-1; +\infty[$ بما يلي :

$$f(x) = 1 + (x-1)\ln(x+1)$$

1. احسب $\lim_{x \rightarrow +\infty} f(x)$ و فسر النتيجة هندسيا ثم احسب $\lim_{x \rightarrow -1^+} f(x)$
2. (أ) ادرس اتجاه تغير الدالة f على المجال $]-1; +\infty[$ ، ثم شكل جدول تغيراتها. (ب) بيّن أنّ : $f(a) = -a + 4 - \frac{4}{a+1}$ ثم أعط حصر لـ $f(a)$. (تدور النتائج إلى 10^{-2})
3. ليكن a عدد حقيقي من المجال $]-1; +\infty[$ ، نسمي (T_a) مماس المنحنى (\mathcal{C}_f) الممثل للدالة f في المستوي المنسوب إلى المعلم المتعامد و المتجانس (\vec{i}, \vec{j}) عند النقطة ذات الفاصلة a .
نضع من أجل كل عدد حقيقي x من المجال $]-1; +\infty[$:
 $h(x) = f(x) - [f'(a)(x-a) + f(a)]$ (أ) تحقق أنّه من أجل كل عدد حقيقي x المجال $]-1; +\infty[$: $h'(x) = f'(x) - f'(a)$ (ب) باستعمال اتجاه تغير الدالة g ، عيّن إشارة $h'(x)$ حسب قيم x و استنتج اتجاه تغير h على المجال $]-1; +\infty[$ (ج) حدد الوضع النسبي للمنحنى (\mathcal{C}_f) و (T_a)
4. (أ) بيّن أنّه يوجد مماسان (T_{a_1}) و (T_{a_2}) يشتملان النقطة $A(1;0)$ يطلب تعيين معادلتيهما (ب) ارسم المماسين و المنحنى (\mathcal{C}_f)
5. نعتبر الدالة H المعرفة على المجال $]-1; +\infty[$ بـ : $H(x) = \frac{1}{2}(x^2 - 2x - 3)\ln(x+1) - \frac{1}{4}x^2 + \frac{3}{2}x$ (أ) بيّن أنّ الدالة H دالة أصلية للدالة $(x-1)\ln(x+1)$ على المجال $]-1; +\infty[$ (ب) احسب مساحة الحيز المستوي المحدد بالمنحنى (\mathcal{C}_f) و المستقيمت التي معادلاتها : $x=2$ و $x=1$ ، $y=0$

تمرين 24

تقني رياضي - 2016 - الموضوع الثاني (6,5 نقاط)

الجزء الأول نعتبر الدالة g المعرفة على المجال $]0; +\infty[$ بـ : $g(x) = x - x \ln x$

1. (أ) احسب $\lim_{x \rightarrow +\infty} g(x)$ و $\lim_{x \rightarrow 0^+} g(x)$
- (ب) ادرس اتجاه تغيّر الدالة g على المجال $]0; +\infty[$ ثمّ شكل جدول تغيّراتها
2. بيّن أنّ المعادلة $g(x) = -1$ تقبل حلا وحيدا α حيث : $3,5 < \alpha < 3,6$
3. استنتج إشارة العبارة $g(x) + 1$ على المجال $]0; +\infty[$

الجزء الثاني لتكن الدالة f المعرفة على $]0; +\infty[$ بما يلي :

$$f(x) = \frac{\ln x}{x+1}$$

(\mathcal{C}_f) هو تمثيلها البياني في المستوي المنسوب إلى معلم متعامد، حيث : $\|\vec{i}\| = 2 \text{ cm}$ و $\|\vec{j}\| = 4 \text{ cm}$

1. بيّن أنّ (\mathcal{C}_f) يقبل مستقيمين مقاربيين معادلتيهما $x = 0$ و $y = 0$
2. (أ) برهن أنّه من أجل كل عدد حقيقي x من المجال $]0; +\infty[$: $f'(x) = \frac{g(x)+1}{x(x+1)^2}$
- (ب) بيّن أنّ الدالة f متزايدة تماما على المجال $]0; \alpha[$ و متناقصة تماما على المجال $[\alpha; +\infty[$ ثمّ شكل جدول تغيّراتها.
- (ج) اكتب معادلة للمماس (T) للمنحنى (\mathcal{C}_f) عند النقطة ذات الفاصلة 1
- (د) احسب $\lim_{x \rightarrow \alpha} \frac{f(x) - f(\alpha)}{x - \alpha}$ ، فسّر النتيجة هندسيا.
3. (أ) بيّن أنّ : $f(\alpha) = \frac{1}{\alpha}$
- (ب) استنتج حصرا للعدد $f(\alpha)$ (تدوّر النتائج إلى 10^{-2})
- (ج) ارسم (\mathcal{C}_f)

4. نعتبر المعادلة ذات المجهول الحقيقي الموجب تماما x و m وسيط حقيقي

$$x^2 + x - 2m(x+1) = \ln(x^2) \quad \dots \quad (E)$$

(أ) تحقق أنّ المعادلة (E) يؤول حلّها إلى حل المعادلة : $f(x) = \frac{1}{2}x - m$

(ب) عيّن بيانيا قيم m التي من أجلها تقبل المعادلة (E) حلّين متمايزين

5. h هي الدالة المعرفة على \mathbb{R}^* بما يلي :

$$h(x) = \frac{\ln(|x|)}{-|x| - 1}$$

و (\mathcal{C}_h) منحنها البياني في المستوي

(أ) بيّن أنّ الدال h زوجية

(ب) ارسم في نفس المعلم المنحنى (\mathcal{C}_h) مستعينا بالمنحنى (\mathcal{C}_f)

تمرين 25

تقني رياضي - 2015 - الموضوع الأول (7,5 نقاط)

الجزء الأول h الدالة المعرفة على المجال $]-2; +\infty[$ بما يلي : $h(x) = (x+2)^2 + 2 - 2\ln(x+2)$

1. احسب $\lim_{x \rightarrow +\infty} h(x)$ ، $\lim_{x \rightarrow -2} h(x)$
2. ادرس اتجاه تغير الدالة h ، ثم شكل جدول تغيراتها
3. استنتج أنه من أجل كل عدد حقيقي x من $]-2; +\infty[$ ، $h(x) > 0$

الجزء الثاني f الدالة المعرفة على المجال $]-2; +\infty[$ بما يلي :

$$f(x) = x + 1 + \frac{2}{x+2} \ln(x+2)$$

(\mathcal{C}_f) هو تمثيلها البياني في المستوي المنسوب إلى المعلم المتعامد و المتجانس ($O; \vec{i}, \vec{j}$) (وحدة الطول 1 cm)

1. احسب $\lim_{x \rightarrow +\infty} f(x)$ و فسّر النتيجة هندسيا ، ثم احسب $\lim_{x \rightarrow -2} f(x)$
2. (I) بين أنه من أجل كل عدد حقيقي x من المجال $]-2; +\infty[$:

$$f'(x) = \frac{h(x)}{(x+2)^2}$$

- (ب) ادرس اتجاه تغير الدالة f على المجال $]-2; +\infty[$ ، ثم شكل جدول تغيراتها
3. (I) بين أن المستقيم (Δ) ذا المعادلة $y = x + 1$ مقارب مائل للمنحنى (\mathcal{C}_f) بجوار $+\infty$
- (ب) ادرس وضعية المنحنى (\mathcal{C}_f) بالنسبة إلى المستقيم (Δ)
4. (I) اثبت أن المنحنى (\mathcal{C}_f) يقبل نقطة انعطاف A يطلب تعيين إحداثيها
- (ب) ارسم المستقيمين المقاربين و المنحنى (\mathcal{C}_f)
- (ج) احسب بالسنتيمتر المربع، مساحة الحيز المحدد بالمنحنى (\mathcal{C}_f) و المستقيمتين التي معادلاتها : $x = -1$ ، $y = 0$ و $x = 1$

الجزء الثالث g الدالة المعرفة على المجال $]-2; +\infty[$ ب :

$$g(x) = |x+1| + \frac{2}{x+2} |\ln(x+2)|$$

1. احسب $\lim_{x \rightarrow -1} \frac{g(x) - g(-1)}{x+1}$ و $\lim_{x \rightarrow -1} \frac{g(x) - g(-1)}{x+1}$ ، ماذا تستنتج بالنسبة إلى g ؟
2. اعط تفسيرا هندسيا لهذه النتيجة
3. انطلاقا من المنحنى (\mathcal{C}_f) ارسم المنحنى (\mathcal{C}_g) الممثل للدالة g في نفس المعلم السابق

تمرين 26

تقني رياضي - 2015 - الموضوع الأول (7 نقاط)

الجزء الأول g الدالة المعرفة على \mathbb{R} بما يلي : $g(x) = (x+2)e^x - 2$

1. احسب : $\lim_{x \rightarrow -\infty} g(x)$ و $\lim_{x \rightarrow +\infty} g(x)$
2. ادرس اتجاه تغير الدالة g ، ثم شكّل جدول تغيراتها
3. احسب $g(0)$ ، ثم استنتج إشارة $g(x)$

الجزء الثاني f الدالة المعرفة على \mathbb{R} بما يلي :

$$f(x) = 2x + 3 - (x+1)e^x$$

(\mathcal{C}_f) هو تمثيلها البياني في المستوي المنسوب إلى المعلم المتعامد و المتجانس $(O; \vec{i}, \vec{j})$

1. بيّن أنّ $\lim_{x \rightarrow +\infty} f(x) = -\infty$ ، ثم احسب $\lim_{x \rightarrow -\infty} f(x)$
2. (أ) بيّن أنّه من أجل كل عدد حقيقي x ، $f'(x) = -g(x)$
- (ب) استنتج إشارة $f'(x)$ ، ثم شكّل جدول تغيرات الدالة f
- (ج) بيّن أنّ المستقيم (Δ) ذا المعادلة $y = 2x + 3$ مستقيم مقارب مائل للمنحنى (\mathcal{C}_f) عند $-\infty$ ثم ادرس وضعية (\mathcal{C}_f) بالنسبة إلى المستقيم (Δ)
3. (أ) بيّن أنّ المعادلة $f(x) = 0$ تقبل حلين α و β حيث : $0,92 < \alpha < 0,93$ و $-1,55 < \beta < -1,56$
- (ب) ارسم المستقيم (Δ) و المنحنى (\mathcal{C}_f) على المجال $]-\infty; \frac{3}{2}]$
4. (أ) بيّن أنّ الدالة $x \mapsto xe^x$ هي دالة أصلية للدالة $x \mapsto (x+1)e^x$ على \mathbb{R}
- (ب) احسب $A(\alpha)$ مساحة الحيز المستوي المحدّد بالمنحنى (\mathcal{C}_f) و المستقيم (Δ) و المستقيمين اللذين معادلتهما $x = 0$ ، $x = \alpha$ (حيث α هي القيمة المعرفة في السؤال 3. (أ))
- (ج) جد حصرا للعدد $A(\alpha)$

تمرين 27

تقني رياضي - 2014 - الموضوع الأول (6 نقاط)

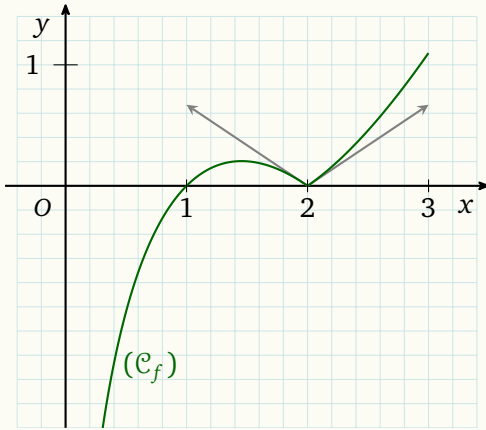
المستوي منسوب إلى المعلم المتعامد و المتجانس $(O; \vec{i}, \vec{j})$

الجزء الأول g الدالة المعرفة على المجال $]0; 3]$ بـ : $g(x) = x \ln x + x$

1. ادرس تغيّرات الدالة g

2. (أ) بيّن أنّ المعادلة $g(x) = 2$ تقبل حلا وحيدا α في $]0; 3]$ ثمّ تحقق أنّ $1,45 < \alpha < 1,46$

(ب) استنتج إشارة $g(x) - 2$



الجزء الثاني التمثيل البياني المقابل (C_f) هو للدالة f المعرفة على المجال

$f(x) = |x - 2| \ln x$: بـ $]0; 3]$

1. باستعمال (C_f) ضع تخمينا حول قابلية اشتقاق الدالة f عند 2

2. أثبت صحة تخمينك

3. ادرس تغيّرات الدالة f

الجزء الثالث h الدالة المعرفة على $]0; \frac{\pi}{2}[$ كما يلي : $h(x) = (2 - \cos x) \ln(\cos x)$

1. بيّن أنّ المستقيم (Δ) ذو المعادلة $x = \frac{\pi}{2}$ مقارب للمنحنى (C_h) ، حيث (C_h) هو التمثيل البياني للدالة h

2. ادرس اتجاه تغيّر الدالة h ، ثمّ شكل جدول تغيّراتها و ارسم (Δ) و (C_h)

تمرين 28

تقني رياضي - 2014 - الموضوع الثاني (6 نقاط)

f هي الدالة المعرفة على \mathbb{R} بـ : $f(x) = (x-1)e^x$

(\mathcal{C}_f) هو تمثيلها البياني في المستوي المنسوب إلى المعلم المتعامد و المتجانس $(O; \vec{i}, \vec{j})$

1. عيّن نهاية f عند كل من $-\infty$ و $+\infty$

2. ادرس اتجاه تغيير الدالة f على \mathbb{R} ثم شكّل جدول تغييراتها

3. (أ) بيّن أنّ المعادلة $f(x) = 1$ تقبل حلا وحيدا α على \mathbb{R} ، ثمّ تحقق أنّ $1,27 < \alpha < 1,28$

(ب) اكتب معادلة T مماس المنحنى (\mathcal{C}_f) عند النقطة ذات الفاصلة 1 و حدّد وضعية (\mathcal{C}_f) بالنسبة إلى (T)

(ج) ارسم (T) و (\mathcal{C}_f)

4. عيّن قيم العدد الحقيقي m التي من أجلها تقبل المعادلة $(x-1)e^x - (m-1)e^m = -1$ حلا واحدا في \mathbb{R}

5. h هي الدالة المعرفة على \mathbb{R} بـ : $h(x) = (|x|+1)e^{-|x|}$ و (\mathcal{C}_h) تمثيلها البياني

(أ) بيّن أنّ الدالة h زوجية

(ب) ارسم (\mathcal{C}_h) مستعينا بالمنحنى (\mathcal{C}_f)

6. g دالة معرفة على \mathbb{R} بـ : $g(x) = (ax+b)e^x$ حيث a, b عدنان حقيقيان

عيّن a, b حتى يكون : من أجل كل عدد x من \mathbb{R} ، $g'(x) = f(x)$

تمرين 29

تقني رياضي - 2013 - الموضوع الأول (7 نقاط)

الجزء الأول الدالة g معرفة على المجال $]-1; +\infty[$: بالعبارة : $g(x) = (x+1)^2 - 2 + \ln(x+1)$

1. ادرس اتجاه تغير الدالة g على المجال $]-1; +\infty[$
2. بين أن المعادلة $g(x) = 0$ تقبل حلا وحيدا α حيث : $0,31 < \alpha < 0,32$ و أن $\ln(\alpha+1) = 2 - (\alpha+1)^2$
3. استنتج حسب قيم x إشارة $g(x)$

الجزء الثاني الدالة f معرفة على المجال $]-1; +\infty[$: بالعبارة :

$$f(x) = (x+1)^2 + (2 - \ln(x+1))^2$$

(\mathcal{C}_f) هو تمثيلها البياني في المستوي المنسوب إلى المعلم المتعامد و المتجانس ($O; \vec{i}, \vec{j}$)

1. احسب $\lim_{x \rightarrow +\infty} f(x)$ و $\lim_{x \rightarrow -1} f(x)$
2. أثبت أنه من أجل كل عدد حقيقي x من $]-1; +\infty[$ ،

$$f'(x) = \frac{2g(x)}{x+1}$$

3. ادرس اتجاه تغير الدالة f ، ثم شكّل جدول تغيراتها
4. بين أن : $f(\alpha) = (\alpha+1)^2 (1 + (\alpha+1)^2)$ ، ثم استنتج حصرا للعدد $f(\alpha)$
5. مثل المنحنى (\mathcal{C}_f) على المجال $]-1; 2]$

الجزء الثالث (Γ) المنحنى الممثل للدالة h المعرفة على المجال $]-1; +\infty[$: بالعبارة : $h(x) = \ln(x+1)$

A النقطة ذات الإحداثيتين $(-1; 2)$ و B نقطة من (Γ) فاصلتها x

1. أثبت أن المسافة AM تعطى بالعبارة $AM = \sqrt{f(x)}$
2. الدالة k معرفة على المجال $]-1; +\infty[$: بالعبارة : $k(x) = \sqrt{f(x)}$
- (أ) بين أن للدالتين k و f نفس اتجاه التغير على المجال $]-1; +\infty[$
- (ب) عيّن إحداثيتي النقطة B من (Γ) ، بحيث تكون المسافة AM أصغر ما يمكن
- (ج) بين أن : $AB = (\alpha+1)\sqrt{(\alpha+1)^2 + 1}$

تمرين 30

تقني رياضي - 2016 - الموضوع الثاني (7,5 نقاط)

الجزء الأول الدالة g معرفة على \mathbb{R} كما يلي : $g(x) = (x-1)e^x$

1. ادرس تغيّرات الدالة g

2. بيّن أنّه من أجل كل عدد حقيقي $x : 1 + (x-1)e^x \geq 0$

الجزء الثاني الدالة f معرفة على $[0; +\infty[$ كما يلي :

$$\begin{cases} f(x) = \frac{e^x - 1}{x}, & x > 0 \\ f(0) = 1 \end{cases}$$

1. (ا) بيّن أنّ الدالة f مستمرة على $[0; +\infty[$

(ب) احسب $\lim_{x \rightarrow +\infty} f(x)$

2. (ا) تحقق أنّه من أجل كل عدد حقيقي x من $[0; +\infty[$:

$$f'(x) = \frac{1 + (x-1)e^x}{x^2}$$

(ب) استنتج اتجاه تغيّر الدالة f ، ثمّ شكّل جدول تغيّراتها

الجزء الثالث n عدد طبيعي حيث $n \geq 1$ ، f_n الدالة المعرفة على $[0; +\infty[$ بـ :

$$f_n(x) = \frac{e^x - 1}{x} + n \ln x$$

و (\mathcal{C}_f) هو تمثيلها البياني في المستوي المنسوب إلى المعلم المتعامد و المتجانس $(O; \vec{i}, \vec{j})$

1. ادرس اتجاه تغيّر الدالة f_n على $[0; +\infty[$

2. احسب $\lim_{x \rightarrow +\infty} f_n(x)$ و $\lim_{x \rightarrow 0} f_n(x)$

3. ادرس الوضع النسبي للمنحنيين (\mathcal{C}_{f_n}) و $(\mathcal{C}_{f_{n+1}})$

4. بيّن أنّ جميع المنحنيات تمر من نقطة ثابتة B يطلب تعيين إحداثياتها

5. (ا) بيّن أنّه، يوجد عدد حقيقي وحيد α_1 من $]0,3; 0,4[$ بحيث $f_1(\alpha_1) = 0$

(ب) بيّن أنّه، من أجل كل عدد طبيعي n حيث $n \geq 1$ فإنّ $f_n(\alpha_1) < 0$ ثمّ برهن أنّه يوجد عدد حقيقي وحيد α_n من

$$] \alpha_1; 1[\text{ بحيث } f_n(\alpha_n) = 0$$

6. (ا) بالاعتماد على الجزء الثاني، بيّن أنّه من أجل كل عدد حقيقي x من $]0; 1[$: $\frac{e^x - 1}{x} \leq e - 1$

(ب) استنتج أنّه، من أجل كل عدد طبيعي n حيث $n \geq 1$ ، $\ln(\alpha_n) \geq \frac{1-e}{n}$ ، ثمّ $\alpha_n \geq e^{\frac{1-e}{n}}$

(ج) جد نهاية المتتالية (α_n)

تمرين 31

تقني رياضي - 2012 - الموضوع الأول (7 نقاط)

الجزء الأول g هي الدالة المعرفة على \mathbb{R} كما يلي : $g(x) = -4 + (4 - 2x)e^x$

1. ادرس تغيّرات الدالة g ، ثم شكّل جدول تغيّراتها
2. بيّن أنّ المعادلة $g(x) = 0$ تقبل حلين أحدهما معدوم و الآخر α حيث : $1,59 < \alpha < 1,60$
3. استنتج إشارة $g(x)$

الجزء الثاني f هي الدالة المعرفة على \mathbb{R} كما يلي :

$$f(x) = \frac{2x - 2}{e^x - 2x}$$

(\mathcal{C}_f) هو تمثيلها البياني في المستوي المنسوب إلى المعلم المتعامد و المتجانس ($O; \vec{i}, \vec{j}$) (وحدة الطول 2 cm)

1. بيّن أنّ (\mathcal{C}_f) يقبل عند $-\infty$ و $+\infty$ مستقيمين مقاربين معادلتاهما على الترتيب : $y = -1$ و $y = 0$
2. (ا) برهن أنّه من أجل كل عدد حقيقي x :

$$f'(x) = \frac{g(x)}{(e^x - 2x)^2}$$

- (ب) استنتج إشارة $f'(x)$ ، ثم شكّل جدول تغيّرات الدالة f
- (ج) احسب $f(1)$ ، ثم استنتج ، حسب قيم ، إشارة $f(x)$
3. (ا) بيّن أنّ : $f(\alpha) = -1 + \frac{1}{\alpha - 1}$ ، حيث α هو العدد المعرف في السؤال 2 من الجزء الأول
- (ب) استنتج حصرا للعد $f(\alpha)$ (تدوّر النتائج إلى 10^{-2})
- (ج) ارسم (\mathcal{C}_f)

4. ناقش بيانيا ، حسب قيم الوسيط الحقيقي m ، عدد و إشارة حلول المعادلة : $2x - 2 = (e^x - 2x)(m + 1)$

5. h هي الدالة المعرفة على \mathbb{R} كما يلي : $h(x) = [f(x)]^2$

(ا) احسب $h'(x)$ بدلالة كل من $f(x)$ و $f'(x)$ ، ثم استنتج إشارة $h'(x)$

(ب) شكّل جدول تغيّرات الدالة h

تمرين 32

تقني رياضي - 2012 - الموضوع الثاني (7 نقاط)

الجزء الأول g هي الدالة المعرفة على $]0; +\infty[$ كما يلي : $g(x) = x^2 + a + b \ln x$ حيث a و b عدنان حقيقيان

1. عيّن a و b علما أنّ التمثيل البياني للدالة g يقبل في النقطة $A(1; -1)$ مماسا معامل توجيهه 4

2. نضع $a = -2$ و $b = 2$

(أ) ادرس تغيّرات الدالة g ، ثمّ شكّل جدول تغيّراتها

(ب) بيّن أنّ المعادلة $g(x) = 0$ تقبل حلا وحيدا α على $]0; +\infty[$ ، ثمّ استنتج إشارة $g(x)$ على $]0; +\infty[$

الجزء الثاني f هي الدالة المعرفة على $]0; +\infty[$ ب :

$$f(x) = x - 2 - \frac{2 \ln x}{x}$$

(\mathcal{C}_f) هو تمثيلها البياني في المستوي المنسوب إلى المعلم المتعامد و المتجانس $(O; \vec{i}, \vec{j})$ (وحدة الطول 2 cm)

1. (أ) احسب $\lim_{x \rightarrow +\infty} f(x)$ و $\lim_{x \rightarrow 0^+} f(x)$

(ب) احسب $f'(x)$ ، ثمّ تحقق أنّ : $f'(x) = \frac{g(x)}{x^2}$

(ج) استنتج إشارة $f'(x)$ ، ثمّ شكّل جدول تغيّرات الدالة f

2. (أ) بيّن أنّ المستقيم (Δ) ذا المعادلة $y = x - 2$ مقارب ل (\mathcal{C}_f) ، ثمّ ادرس وضعية (\mathcal{C}_f) بالنسبة إلى (Δ)

(ب) بيّن أنّ (\mathcal{C}_f) يقبل مماسا (T) يوازي (Δ) ، ثمّ جد معادلة له

(ج) نأخذ $\alpha \approx 1,25$. بيّن أنّ المعادلة $f(x) = 0$ تقبل حلين x_1 و x_2 حيث : $0,6 < x_1 < 0,7$ و $2,7 < x_2 < 2,8$ ، ثمّ

ارسم كلا من (Δ) ، (T) و (\mathcal{C}_f)

3. ناقش بيانيا ، حسب قيم الوسيط الحقيقي m ، عدد حلول المعادلة : $(m + 2)x + 2 \ln x = 0$

تمرين 33

تقني رياضي - 2011 - الموضوع الأول (6 نقاط)

f دالة عددية معرفة على $]0; +\infty[$ كما يلي :

$$f(x) = \frac{a + b \ln(2x)}{4x^2}$$

حيث a و b عدنان حقيقيان و (\mathcal{C}_f) هو تمثيلها البياني في المستوي المنسوب إلى المعلم المتعامد و المتجانس $(O; \vec{i}, \vec{j})$

1. عيّن a و b بحيث يكون المماس في النقطة $A\left(\frac{1}{2}; 1\right)$ للمنحنى (\mathcal{C}_f) موازيا لحامل محور الفواصل

2. الدالة العددية المعرفة على $]0; +\infty[$ كما يلي :

$$g(x) = \frac{1 + 2 \ln(2x)}{4x^2}$$

و (\mathcal{C}_g) هو المنحنى الممثل لها في المعلم السابق

(أ) احسب $\lim_{x \rightarrow +\infty} g(x)$ و $\lim_{x \rightarrow 0^+} g(x)$ ، فسّر النتيجة هندسيا

(ب) ادرس اتجاه تغيّر الدالة g ثم شكّل جدول تغيّراتها

(ج) حل في $]0; +\infty[$ المعادلة $g(x) = 0$

(د) أنشئ (\mathcal{C}_g)

3. (أ) الدالة العددية المعرفة على المجال $]0; +\infty[$ كما يلي :

$$h(x) = \frac{1 + 2 \ln(2x)}{2x}$$

احسب $h'(x)$

(ب) تحقق أنّ : $g(x) = \frac{1}{4x^2} + \frac{\ln(2x)}{2x^2}$ ثم استنتج دالة أصلية للدالة g على المجال $]0; +\infty[$

تمرين 34

تقني رياضي - 2011 - الموضوع الثاني (7,5 نقاط)

الجزء الأول f الدالة العددية المعرفة على مجموعة الأعداد الحقيقية \mathbb{R} كما يلي :

$$f(x) = 3 - \frac{4}{e^x + 1}$$

(\mathcal{C}_f) هو تمثيلها البياني في المستوي المنسوب إلى المعلم المتعامد و المتجانس $(O; \vec{i}, \vec{j})$

1. ادرس تغيّرات الدالة f
2. عيّن المستقيمات المقاربة للمنحنى (\mathcal{C}_f)
3. بيّن أنّ للمنحنى (\mathcal{C}_f) نقطة انعطاف ω يطلب تعيينها ثمّ اكتب معادلة لمماس (\mathcal{C}_f) عندها
4. لتكن g الدالة العددية المعرفة على \mathbb{R} كما يلي : $g(x) = f(x) - x$
 - (أ) ادرس تغيّرات الدالة g
 - (ب) بيّن أنّ المعادلة $g(x) = 0$ تقبل حلا وحيدا α حيث : $2,7 < \alpha < 2,8$
5. (أ) حل في \mathbb{R} المعادلة $f(x) = 0$
- (ب) ارسم المماس و المستقيم (Δ) الذي معادلته $y = x$ و المنحنى (\mathcal{C}_f)

الجزء الثاني (u_n) المتتالية العددية المعرفة كما يلي : $u_0 = 1$ و من أجل كل عدد طبيعي n : $u_{n+1} = f(u_n)$

1. باستخدام (\mathcal{C}_f) و المستقيم (Δ) مثل u_0 و u_1 و u_2 على حامل محور الفواصل
2. بيّن أنّه من أجل كل عدد طبيعي n فإنّ $1 \leq u_n < \alpha$
3. بيّن أنّ المتتالية (u_n) متزايدة تماما
4. استنتج أنّ (u_n) متقاربة و بيّن أنّ $\lim_{n \rightarrow +\infty} u_n = \alpha$

تمرين 35

تقني رياضي - 2010 - الموضوع الأول (7 نقاط)

f الدالة العددية المعرفة على \mathbb{R}^* بالعبارة :

$$f(x) = \frac{3xe^x - 3x - 4}{3(e^x - 1)}$$

(\mathcal{C}_f) هو تمثيلها البياني في المستوي المنسوب إلى المعلم المتعامد و المتجانس $(O; \vec{i}, \vec{j})$

1. عيّن العددين الحقيقيين a و b بحيث : $f(x) = ax + \frac{b}{3(e^x - 1)}$ من أجل كل x من \mathbb{R}^*

2. احسب نهايات الدالة f عند أطراف كل مجال من مجالي تعريفها

3. بيّن أنّ f متزايدة تماما على كل مجال من مجالي تعريفها ثمّ شكل جدول تغيّراتها

4. (ا) (\mathcal{D}) و (\mathcal{D}') المستقيمان اللذان معادلتهما على الترتيب : $y = x + \frac{4}{3}$ و $y = x$

بيّن أنّ (\mathcal{D}) و (\mathcal{D}') مقاربان للمنحنى (\mathcal{C}_f) ، ثمّ حدّد وضعيته بالنسبة لكل منهما

(ب) بيّن أنّ المعادلة $f(x) = 0$ تقبل حلين x_0 و x_1 حيث $0,9 < x_0 < 0,91$ و $-1,66 < x_1 < -1,65$

(ج) احسب من أجل كل عدد حقيقي x غير معدوم $f(x) + f(-x)$. فسّر النتيجة هندسيا

(د) ارسم (\mathcal{D}) و (\mathcal{D}') و (\mathcal{C}_f)

(هـ) m عدد حقيقي ، (\mathcal{D}_m) المستقيم المعرّف بالمعادلة $y = x + m$

ناقش بيانيا حسب قيم m عدد حلول المعادلة $f(x) = x + m$

5. نعتبر الدالة g المعرفة على المجال $]0; +\infty[$ كما يأتي : $g(x) = [f(x)]^2$

ادرس تغيّرات الدالة g دون حساب $g(x)$ بدلالة x

تمرين 36

تقني رياضي - 2010 - الموضوع الثاني (6 نقاط)

f الدالة العددية المعرفة على كما يلي :

$$f(x) = x \left(1 + \frac{1}{\sqrt{x^2 + 1}} \right)$$

و (\mathcal{C}_f) هو تمثيلها البياني في المستوي المنسوب إلى المعلم المتعامد و المتجانس $(O; \vec{i}, \vec{j})$

1. (أ) أثبت أنّ الدالة f فردية

(ب) أثبت أنّه من أجل كل عدد حقيقي x لدينا :

$$f'(x) = 1 + \frac{1}{(x^2 + 1)\sqrt{x^2 + 1}}$$

(ج) ادرس تغيّرات الدالة f

2. (أ) اكتب معادلة للمماس (T) للمنحنى (\mathcal{C}_f) في النقطة ذات الفاصلة 0

(ب) ادرس وضعية (\mathcal{C}_f) بالنسبة إلى (T) و استنتج أنّ (\mathcal{C}_f) يقبل نقطة انعطاف يطلب تعيينها

(ج) بيّن أنّ المستقيم (d) ذو المعادلة $y = x + 1$ مقارب لمنحنى (\mathcal{C}_f) في جوار $+\infty$ ، ثمّ استنتج معادلة (d') المستقيم

المقارب الآخر

(د) ارسم (d) و (d') و (\mathcal{C}_f) في المعلم السابق

3. g الدالة العددية المعرفة على \mathbb{R} كما يلي :

$$g(x) = |x| \left(1 + \frac{1}{\sqrt{x^2 + 1}} \right)$$

(أ) بيّن أنّ الدالة g زوجية

(ب) انطلاقاً من (\mathcal{C}_f) ارسم (\mathcal{C}_g) منحنى الدالة g في نفس المعلم السابق

تمرين 37

تقني رياضي - 2009 - الموضوع الأول (7 نقاط)

نعتبر الدالة f المعرفة على \mathbb{R} كما يلي :

$$f(x) = x + \frac{2}{e^x + 1}$$

(\mathcal{C}_f) هو تمثيلها البياني في المستوي المنسوب إلى المعلم المتعامد و المتجانس $(O; \vec{i}, \vec{j})$

1. احسب $f(x) + f(-x)$ من أجل كل عدد حقيقي x ، ثم استنتج أنّ النقطة $\omega(0; 1)$ هي مركز تناظر للمنحنى (\mathcal{C}_f)

2. ادرس تغيّرات الدالة f على المجال $[0; +\infty[$ ثم استنتج جدول تغيّراتها على \mathbb{R}

3. بيّن أنّ المستقيم ذي المعادلة $y = x$ هو مستقيم مقارن للمنحنى (\mathcal{C}_f) عند $+\infty$

احسب $\lim_{x \rightarrow -\infty} [f(x) - (x + 2)]$ ، ثم استنتج المستقيم المقارب للمنحنى (\mathcal{C}_f) عند $-\infty$

4. بيّن أنّ للمعادلة $f(x) = 0$ حلا وحيدا α بحيث $-1,7 < \alpha < -1,6$

5. ارسم (\mathcal{C}_f) من أجل $x \in \mathbb{R}$

6. بيّن أنّه من أجل كل عدد حقيقي x ،

$$f(x) = x + \frac{2e^{-x}}{e^{-x} + 1}$$

7. احسب $A(\alpha)$ مساحة الحيز المستوي المحدّد بالمنحنى (\mathcal{C}_f) و المستقيمت ذات المعادلات : $y = x + 2$ و $x = 0$

و $x = \alpha$

بيّن أنّ $A(\alpha) = 2 \ln(-\alpha)$ ، ثم استنتج حصرا للعدد $A(\alpha)$

تمرين 38

تقني رياضي - 2009 - الموضوع الثاني (7 نقاط)

1. g دالة معرفة على $[1; +\infty[$ كما يلي : $g(x) = 2x + \ln x$

(أ) احسب نهاية الدالة f عندما يؤول x إلى $+\infty$

(ب) ادرس اتجاه تغير الدالة g

(ج) بين أنه من أجل كل عدد حقيقي x من المجال $[1; +\infty[$ فإن $g(x) \neq 0$

2. لتكن f دالة معرفة على $[1; +\infty[$ كما يلي :

$$f(x) = \frac{6 \ln x}{2x + \ln x}$$

(أ) بي، أنه يمكن كتابة $f(x)$ على الشكل $f(x) = \frac{6 \frac{\ln x}{x}}{2 + \frac{\ln x}{x}}$ من أجل $x \in [1; +\infty[$

(ب) احسب $\lim_{x \rightarrow +\infty} f(x)$ ، ماذا تستنتج ؟

(ج) ادرس اتجاه تغير الدالة f

(د) شكل جدول تغيرات f ، ما هي قيم العدد الحقيقي k بحيث تقبل المعادلة $f(x) = k$ حلين متميزين ؟

(هـ) جد معادلة للمماس (Δ_1) للمنحنى (\mathcal{C}_f) عند النقطة التي فاصلتها 1 حيث (\mathcal{C}_f) يرمز إلى التمثيل البياني للدالة f

في المعلم المتعامد و المتجانس $(O; \vec{i}, \vec{j})$

3. نعتبر الدالة h المعرفة على $[1; +\infty[$ بالعبارة : $h(x) = f(e^x)$ و (\mathcal{C}_h) تمثيلها البياني في المعلم السابق

(أ) شكل جدول تغيرات الدالة h

(ب) جد معادلة للمماس (Δ_2) للمنحنى (\mathcal{C}_h) عند النقطة التي فاصلتها 1

(ج) ارسم كلا من (Δ_1) ، (Δ_2) ، (\mathcal{C}_f) و (\mathcal{C}_h) في نفس المعلم السابق

شعبة رياضيات

تمرين 39

رياضيات - 2017 - الموضوع الأول (7 نقاط)

نعتبر الدالة العددية f المعرفة على \mathbb{R} بـ : $f(x) = (-x^3 + 2x^2)e^{-x+1}$

(\mathcal{C}_f) هو تمثيلها البياني في المستوي المنسوب إلى المعلم المتعامد و المتجانس $(O; \vec{i}, \vec{j})$

1. (ا) احسب $\lim_{x \rightarrow -\infty} f(x)$ و $\lim_{x \rightarrow +\infty} f(x)$ ، استنتج وجود مستقيم مقارب للمنحنى (\mathcal{C}_f) يطلب تعيين معادلة له

(ب) بين أن : من أجل كل عدد حقيقي x ، $f'(x) = x(x^2 - 5x + 4)e^{-x+1}$

ثم استنتج اتجاه تغير الدالة f و شكّل جدول تغيراتها

2. اكتب معادلة (T) مماس المنحنى (\mathcal{C}_f) في النقطة ذات الفاصلة 2

3. h الدالة المعرفة على المجال $[0; +\infty[$ كما يلي : $h(x) = x^2e^{-x+2} - 4$

ادرس اتجاه تغير الدالة h ثم استنتج إشارة $h(x)$ حدّد عندئذ وضعية (\mathcal{C}_f) بالنسبة إلى (T) على المجال $[0; +\infty[$

4. ارسم المماس (T) و المنحنى (\mathcal{C}_f) على المجال $[0; +\infty[$

5. نعتبر m وسيط حقيقي و المعادلة ذات المجهول الحقيقي x الموجب : $f(x) = m(x-2) \dots (E)$

ناقش بيانيا حسب قيم m عدد حلول المعادلة (E)

6. g الدالة المعرفة على المجال $[0; +\infty[$ بـ : $g(x) = f\left(\frac{1}{x}\right)$

اعتمادا على السؤال رقم 1 ، شكّل جدول تغيرات الدالة g

تمرين 40

رياضيات - 2017 - الموضوع الثاني (7 نقاط)

الجزء الأول نعتبر الدالة العددية g المعرفة على المجال $]0; +\infty[$ كما يلي : $g(x) = \frac{1}{x} - \ln x$

1. ادرس تغيّرات الدالة g

2. بيّن أنّ المعادلة $g(x) = 0$ تقبل حلا وحيدا α من المجال $]1,76; 1,77[$ ثمّ استنتج إشارة $g(x)$ على $]0; +\infty[$

الجزء الثاني نعتبر الدالة العددية f المعرفة على $]0; +\infty[$ المجال كما يلي :

$$\begin{cases} f(x) = \frac{x+1}{x-\ln x}, & x > 0 \\ f(0) = 0 \end{cases}$$

(\mathcal{C}_f) هو تمثيلها البياني في المستوي المنسوب إلى المعلم المتعامد و المتجانس $(O; \vec{i}, \vec{j})$

1. أثبت أنّ الدالة f مستمرة عند العدد 0 على اليمين، ثمّ احسب $\lim_{x \rightarrow 0^+} \frac{f(x)}{x}$ و فسّر النتيجة بيانيا

2. بيّن أنّ : من أجل عدد حقيقي x من المجال $]0; +\infty[$ ، $f'(x) = \frac{g(x)}{(x-\ln x)^2}$ ،

3. احسب $\lim_{x \rightarrow +\infty} f(x)$ و فسّر ذلك بيانيا ثم شكّل جدول تغيّرات الدالة f

4. لتكن الدالة h المعرفة على $]0; +\infty[$ بـ : $h(x) = x - \ln x$

(I) بيّن أنّ : من أجل كل عدد حقيقي x موجب تماما ، $h(x) > 0$

و استنتج وضعية (\mathcal{C}_f) بالنسبة إلى المستقيم (Δ) ذي المعادلة $y = 1$

(ب) ارسم (\mathcal{C}_f) . (نأخذ $f(\alpha) \approx 2,31$)

5. لتكن الدالة F المعرفة على المجال $]0; +\infty[$ كما يلي : $F(x) = \int_1^x f(t) dt$

- بيّن أنّ : من أجل كل عدد حقيقي x حيث $x \geq 1$ ، $\frac{1}{x} + 1 \leq f(x) \leq f(\alpha)$ ،

- اعط تفسيرا هندسيا للعدد $F(e)$ ثمّ استنتج حصرا له

تمرين 41

رياضيات - 2016 - الموضوع الأول (7 نقاط)

الجزء الأول g الدالة العددية المعرفة على المجال $]0; +\infty[$ بـ : $g(x) = 1 + x^2 + 2 \ln x$

1. ادرس اتجاه تغير الدالة g

2. بين أن المعادلة $g(x) = 0$ تقبل في المجال $]0,52; 0,53[$ حلا وحيدا α

3. استنتج إشارة $g(x)$ على المجال $]0; +\infty[$

الجزء الثاني f الدالة العددية المعرفة على المجال $]0; +\infty[$ بـ :

$$f(x) = -x + \frac{3 + 2 \ln x}{x}$$

(\mathcal{C}_f) هو تمثيلها البياني في المستوي المنسوب إلى المعلم المتعامد و المتجانس $(O; \vec{i}, \vec{j})$

1. احسب $\lim_{x \rightarrow +\infty} f(x)$ و $\lim_{x \rightarrow 0} f(x)$

2. (أ) بين أنه من أجل كل عدد حقيقي x من المجال $]0; +\infty[$: $f'(x) = \frac{-g(x)}{x^2}$

(ب) شكّل جدول تغيرات الدالة f

(ج) تحقق أن : $f(\alpha) = 2\left(\frac{1}{\alpha} - \alpha\right)$ ثم عيّن حصرًا له

3. (أ) احسب $\lim_{x \rightarrow +\infty} [f(x) + x]$ ثم فسّر النتيجة هندسيا

(ب) ادرس وضعية (\mathcal{C}_f) بالنسبة إلى مستقيمته المقارب المائل (Δ)

(ج) بين أن (\mathcal{C}_f) يقبل مماسا (T) يوازي (Δ) يطلب كتابة معادلة ديكاربية له

4. نقبل أن (\mathcal{C}_f) يقطع حامل محور الفواصل في نقطتين فاصلتيهما x_0 و x_1 حيث : $0,22 < x_0 < 0,23$ و $2,11 < x_1 < 2,13$

ارسم (T) ، (Δ) ، و (\mathcal{C}_f)

5. m وسيط حقيقي. ناقش حسب قيم m ، عدد حلول المعادلة : $3 + 2 \ln x - mx = 0$

الجزء الثالث من أجل كل عدد طبيعي n نضع : $u_n = \int_{e^n}^{e^{n+1}} [f(x) + x] dx$

1. بين أنه من أجل كل عدد طبيعي n : $u_n > 0$

2. أعط تفسيرا هندسيا للعدد u_0

3. احسب u_n بدلالة n

4. نضع : $S_n = u_0 + u_1 + \dots + u_n$. احسب S_n بدلالة n

تمرين 42

رياضيات - 2016 - الموضوع الثاني (7 نقاط)

الجزء الأول φ الدالة العددية المعرفة على \mathbb{R} كما يلي : $\varphi(x) = (x^2 - x + 1)e^{-x+1} - 1$

1. (أ) احسب $\lim_{x \rightarrow +\infty} \varphi(x)$ و $\lim_{x \rightarrow -\infty} \varphi(x)$

(ب) ادرس اتجاه تغير الدالة φ ثم شكّل جدول تغيراتها

2. بيّن أنّ المعادلة $\varphi(x) = 0$ تقبل في \mathbb{R} ، حلا α يختلف عن 1 ثمّ تحقق أنّ : $2,79 < \alpha < 2,80$

3. استنتج إشارة φ على \mathbb{R}

الجزء الثاني f و g الدالتان العدديتان المرفقتان على \mathbb{R} كما يلي : $f(x) = (2x - 1)e^{-x+1}$ و $g(x) = \frac{2x - 1}{x^2 - x + 1}$

(\mathcal{C}_f) و (\mathcal{C}_g) تمثيلاهما البيانيان في المستوى المنسوب إلى المعلم المتعامد و المتجانس ($O; \vec{i}, \vec{j}$)

1. (أ) احسب $\lim_{x \rightarrow +\infty} f(x)$ و $\lim_{x \rightarrow -\infty} f(x)$

(ب) ادرس اتجاه تغير الدالة f ثمّ شكّل جدول تغيراتها

2. بيّن أنّ للمنحنيين (\mathcal{C}_f) و (\mathcal{C}_g) مماسا مشتركا (T) في النقطة ذات الفاصلة 1 ثمّ جد معادلة له

3. ارسم المماس (T) و المنحنى (\mathcal{C}_f)

4. (أ) بيّن أنّه من أجل كل عدد حقيقي x ، $f(x) - g(x) = \frac{(2x - 1)\varphi(x)}{x^2 - x + 1}$

(ب) ادرس إشارة الفرق $f(x) - g(x)$ على \mathbb{R} ثمّ استنتج الوضع النسبي للمنحنيين (\mathcal{C}_f) و (\mathcal{C}_g)

(ج) باستعمال مكاملة بالتجزئة، احسب بدلالة العدد الحقيقي x : $\int_1^x f(t) dt$

(د) احسب مساحة الحيز المستوي المحدد بالمنحنيين (\mathcal{C}_f) و (\mathcal{C}_g) و المستقيمين اللذين معادلتيهما : $x = 1$ و $x = 2$

الجزء الثالث

1. احسب $f''(x)$ ، $f^{(3)}(x)$ و $f^{(4)}(x)$. أعط تخميننا لعبارة $f^{(n)}(x)$ حيث n عدد طبيعي غير معدوم

($f^{(n)}(x)$ الدالة المشتقة من المرتبة n للدالة f)

2. برهن بالتراجع أنّه من أجل كل عدد طبيعي غير معدوم n ، $f^{(n)}(x) = (-1)^n [2x - (2n + 1)]e^{1-x}$

3. (u_n) المتتالية العددية المعرفة من أجل كل عدد طبيعي غير معدوم n ، كما يلي : $u_n = f^{(n)}(1)$

4. احسب بدلالة العدد الطبيعي غير المعدوم k ، المجموع : $u_k + u_{k+1}$

5. استنتج بدلالة n ، المجموع $u_1 + u_2 + \dots + u_{2n}$

تمرين 43

رياضيات - 2015 - الموضوع الأول (7 نقاط)

f الدالة المعرفة بـ : $f(0) = 1$ ، و من أجل كل عدد حقيقي x من المجال $]0; +\infty[$ ، $f(x) = 1 - x^2 \ln x$ ، (\mathcal{C}_f) هو تمثيلها البياني في المستوي المنسوب إلى المعلم المتعامد و المتجانس $(O; \vec{i}, \vec{j})$

1. (أ) ادرس استمرارية الدالة f عند 0 من اليمين

(ب) احسب $\lim_{x \rightarrow 0^+} \frac{f(x) - 1}{x}$ ، ثم فسّر النتيجة هندسيا

2. (أ) احسب $\lim_{x \rightarrow +\infty} f(x)$

(ب) ادرس اتجاه تغيّر الدالة f ، ثم شكّل جدول تغيّراتها

3. (أ) بيّن أنّ المعادلة $f(x) = 0$ تقبل حلا وحيدا α في المجال $]0; +\infty[$

(ب) تحقق أنّ $1,531 < \alpha < 1,532$

4. نعتبر الدالة g المعرفة على \mathbb{R} بـ : $g(x) = f(|x|)$

(\mathcal{C}_g) المنحنى الممثل للدالة g في نفس المعلم $(O; \vec{i}, \vec{j})$

(أ) ادرس شفعية الدالة g

(ب) أنشئ المنحنى (\mathcal{C}_g) على المجال $[-2; 2]$

5. باستعمال المكاملة بالتجزئة ، عيّن الدالة الأصلية للدالة $x \mapsto x^2 \ln x$ المعرفة على المجال $]0; +\infty[$ ، و التي تتعدم من أجل القيمة 1

6. t عدد حقيقي ينتمي إلى المجال $]0; \alpha]$. نضع : $F(t) = \int_t^\alpha f(x) dx$

(أ) اكتب العبارة $F(t)$ بدلالة t و α

(ب) بيّن أنّه من أجل كل عدد حقيقي t من المجال $]0; \alpha]$ ، $F(t) = \frac{-3tf(t) - t^3 - 6t + \alpha^3 + 6\alpha}{9}$

(ج) احسب $\lim_{t \rightarrow 0} F(t)$

7. m عدد حقيقي ينتمي إلى المجال $]0; \alpha]$

$S(m)$ مساحة الدائرة ذات المركز المبدأ O و نصف القطر m .

نفرض أنّ مساحة الحيز المستوي المحدّد بالمنحنى (\mathcal{C}_g) ، حامل محور الفواصل و المستقيمين اللذين معادلتهم على

الترتيب : $x = -\alpha$ و $x = \alpha$ هي A ، حيث : $A = \frac{2}{9}(\alpha^3 + 6\alpha)$ ua

(ua وحدة المساحات)

(أ) عيّن القيمة المضبوطة للعدد m حتى يكون $S(m) = 2A$

(ب) علما أنّ $3,142 < \pi < 3,140$ أعط حصرًا للعدد m

تمرين 44

رياضيات - 2015 - الموضوع الثاني (7 نقاط)

f هي الدالة المعرفة بـ : $f(0) = 0$ و من أجل كل عدد حقيقي x من المجال $]0; +\infty[$ ،

$$f(x) = (x-1)e^{\frac{1}{x}}$$

(\mathcal{C}_f) هو تمثيلها البياني في المستوي المنسوب إلى المعلم المتعامد و المتجانس $(O; \vec{i}, \vec{j})$

1. ادرس استمرارية الدالة f عند 0 من اليسار

2. احسب $\lim_{x \rightarrow 0} \frac{f(x)}{x}$ ، ثم فسر النتيجة هندسيا

3. (أ) احسب $\lim_{x \rightarrow -\infty} f(x)$

(ب) ادرس اتجاه تغير الدالة f ، ثم شكّل جدول تغيراتها

4. (أ) بيّن أنّ $\lim_{x \rightarrow -\infty} [f(x) - x] = 0$

(ب) استنتج أنّ المنحنى (\mathcal{C}_f) يقبل مستقيما مقاربا مائلا (Δ) بجوار $-\infty$ ، يطلب تعيين معادلة له

5. g الدالة المعرفة على المجال $]0; +\infty[$ بـ : $g(x) = \frac{f(x)}{x}$

(أ) احسب $\lim_{x \rightarrow -\infty} g(x)$

(ب) ادرس اتجاه تغير الدالة g ثم شكّل جدول تغيراتها

6. (أ) بيّن أنّه من أجل كل عدد حقيقي x من المجال $]0; +\infty[$ ، $f(x) > x$

(ب) استنتج وضعية المنحنى (\mathcal{C}_f) بالنسبة إلى المستقيم (Δ)

(ج) أنشئ المنحنى (\mathcal{C}_f)

7. (u_n) المتتالية المعرفة بـ : $u_0 = -3$ و من أجل كل عدد طبيعي n ، $u_{n+1} = f(u_n)$

(أ) بيّن أنّه من أجل كل عدد طبيعي n ، $u_n < 0$

(ب) حدّد اتجاه تغير المتتالية (u_n)

(ج) بيّن أنّ المتتالية (u_n) متقاربة، ثمّ عيّن $\lim_{n \rightarrow +\infty} u_n$

8. m عدد حقيقي. الدالة ذات المتغير الحقيقي x المعرفة على المجال $]0; +\infty[$ بـ :

$$h_m(x) = xe^{\frac{1}{x}} - mx$$

(أ) احسب $h'_m(x)$ حيث h'_m هي الدالة المشتقة للدالة h_m

(ب) باستعمال المنحنى (\mathcal{C}_f) ، ناقش بيانها و حسب قيم الوسيط الحقيقي m ، عدد حلول المعادلة $h'_m(x) = 0$

تمرين 45

رياضيات - 2014 - الموضوع الأول (6 نقاط)

الجزء الأول g الدالة العددية المعرفة على \mathbb{R} كما يلي : $g(x) = (2-x)e^x - 1$

1. ادرس تغيّرات الدالة g
2. بيّن أنّ للمعادلة $g(x) = 0$ في \mathbb{R} حلان α و β حيث $-1,2 < \alpha < -1,1$ و $1,8 < \beta < 1,9$
3. استنتج إشارة $g(x)$ على \mathbb{R}

الجزء الثاني f الدالة العددية المعرفة على \mathbb{R} كما يلي :

$$f(x) = \frac{e^x - 1}{e^x - x}$$

(\mathcal{C}_f) هو تمثيلها البياني في المستوي المنسوب إلى المعلم المتعامد و المتجانس $(O; \vec{i}, \vec{j})$

1. احسب نهاية الدالة f عند $-\infty$ و عند $+\infty$ و فسّر النتيجة هندسيا
2. بيّن أنّه من أجل كل عدد حقيقي x :

$$f'(x) = \frac{g(x)}{(e^x - x)^2}$$

و استنتج اتجاه تغيّر الدالة f ثمّ شكل جدول تغيّراتها

3. بيّن أنّ : $f(\alpha) = \frac{1}{\alpha - 1}$ و استنتج حصرا للعددين $f(\alpha)$ و $f(\beta)$

4. احسب $f(1)$ ثمّ ارسم المنحنى (\mathcal{C}_f)

5. λ عدد حقيقي أكبر أو يساوي 1

$$a(\lambda) = \int_1^\lambda [f(x) - 1] dx \quad (I) \quad \text{احسب بدلالة } \lambda \text{ العدد } a(\lambda) \text{ حيث :}$$

(ب) احسب نهاية $a(\lambda)$ عندما يؤول λ إلى $+\infty$

تمرين 46

رياضيات - 2014 - الموضوع الثاني (5,5 نقاط)

1. f الدالة العددية المعرفة على المجال $]0; +\infty[$ بـ :

$$f(x) = (1 + 2 \ln x)(-1 + \ln x)$$

 (\mathcal{C}_f) هو تمثيلها البياني في المستوى المنسوب إلى المعلم المتعامد و المتجانس $(O; \vec{i}, \vec{j})$ (أ) ادرس تغيّرات الدالة f (ب) اكتب معادلة للمماس (Δ) للمنحنى (\mathcal{C}_f) في النقطة ذات الفاصلة e (حيث e أساس اللوغاريتم النيبيري)(ج) عيّن فواصل نقط تقاطع (\mathcal{C}_f) مع حامل محور الفواصل ثمّ ارسم (\mathcal{C}_f) على المجال $]0; e^2]$ 2. g الدالة العددية المعرفة على المجال $]0; +\infty[$ بـ : $g(x) = 1 - \ln x$ (\mathcal{C}_g) تمثيلها البياني في المعلم السابق(أ) ادرس تغيّرات الدالة g (ب) عيّن الوضع النسبي للمنحنيين (\mathcal{C}_f) و (\mathcal{C}_g) ثمّ ارسم (\mathcal{C}_g) على المجال $]0; e^2]$ 3. نعتبر الدالة العددية h المعرفة على المجال $]0; +\infty[$ بـ : $h(x) = x(\ln x)^2 - 2x \ln x + 2x$ (أ) احسب $h'(x)$ و امستتح دالة أصلية للدالة $(\ln x)^2 \mapsto x$ على المجال $]0; +\infty[$ (ب) احسب العدد : $\int_{\frac{1}{e}}^e [f(x) - g(x)] dx$

تمرين 47

رياضيات - 2013 - الموضوع الأول (6 نقاط)

الجزء الأول

1. الدالة u معرفة على المجال $]0; +\infty[$ ب : $u(x) = e^x - 3x + 4 - e$ (أ) ادرس اتجاه تغير الدالة u (ب) بين أنه، من أجل كل عدد حقيقي x من المجال $]0; +\infty[$ ، $e^x - e > 3x - 4$ ،2. الدالة v معرفة على المجال $]0; +\infty[$ ب : $v(x) = -3x^3 + 4x^2 - 1 + \ln x$ (أ) بين أن : $v'(1) = 0$. (يرمز v' إلى الدالة المشتقة للدالة v)(ب) استنتج، أنه من أجل كل عدد حقيقي x من المجال $]0; +\infty[$ ، $v(x) \leq 0$ ،(ج) استنتج، أنه من أجل كل عدد حقيقي x من المجال $]0; +\infty[$ ، $\frac{-1 + \ln x}{x^2} \leq 3x - 4$ ،3. أثبت أنه ، من أجل كل عدد حقيقي x من المجال $]0; +\infty[$: $e^x - e + \frac{1 - \ln x}{x^2} > 0$ الجزء الثاني الدالة f معرفة على المجال $]0; +\infty[$ ب :

$$f(x) = e^x - ex + \frac{\ln x}{x}$$

 (\mathcal{C}_f) هو تمثيلها البياني في المستوى المنسوب إلى المعلم المتعامد و المتجانس $(O; \vec{i}, \vec{j})$ 1. احسب : $\lim_{x \rightarrow +\infty} f(x)$ و $\lim_{x \rightarrow 0} f(x)$ 2. بين أن الدالة f متزايدة تماما على المجال $]0; +\infty[$ ، ثم شكّل جدول تغيراتها3. احسب $f(1)$ ، ثم مثل المنحنى (\mathcal{C}_f) على المجال $]0; \frac{5}{2}]$. (نأخذ : $f(2) \approx 2,3$ ، $f(1,64) \approx 1$ ، و $f(\frac{5}{2}) \approx 5,75$)4. احسب مساحة الحيز المستوي المحدد بالمنحنى (\mathcal{C}_f) و حامل محور الفواصل و المستقيمين اللذين معادلتاهما $x = \frac{1}{2}$ و $x = 2$

تمرين 48

رياضيات - 2013 - الموضوع الثاني (8 نقاط)

الجزء الأول الدالة g معرفة على \mathbb{R} بـ : $g(x) = 1 + (x^2 - 1)e^{-x}$ 1. (أ) احسب $\lim_{x \rightarrow +\infty} g(x)$ و $\lim_{x \rightarrow -\infty} g(x)$ (ب) ادرس اتجاه تغير الدالة g ، ثم شكّل جدول تغيراتها . (نأخذ $g(1 - \sqrt{2}) \approx -0,25$ و $g(1 + \sqrt{2}) \approx 1,43$)2. (أ) بين أن المعادلة $g(x) = 0$ تقبل حلين في \mathbb{R} ، ثم تحقق أن أحدهما معدوم و الآخر α ، حيث : $-0,8 < \alpha < -0,7$ (ب) استنتج إشارة $g(x)$ ، حسب قيم العدد الحقيقي x الجزء الثاني الدالة f معرفة على \mathbb{R} بـ : $f(x) = x - (x + 1)^2 e^{-x}$ (\mathcal{C}_f) هو تمثيلها البياني في المستوي المنسوب إلى المعلم المتعامد و المتجانس $(O; \vec{i}, \vec{j})$ (وحدة الطول 2 cm)1. (أ) احسب $\lim_{x \rightarrow +\infty} f(x)$ و $\lim_{x \rightarrow -\infty} f(x)$ (ب) بين أن المستقيم (Δ) ذا المعادلة $y = x$ ، مقارب مائل للمنحنى (\mathcal{C}_f) عند $+\infty$ (ج) ادرس وضعية المنحنى (\mathcal{C}_f) بالنسبة إلى المستقيم (Δ) 2. (أ) بين أنه ، من أجل كل عدد حقيقي x ، $f'(x) = g(x)$. (يرمز f' إلى الدالة المشتقة للدالة f)(ب) شكّل جدول تغيرات الدالة f على \mathbb{R} . (نأخذ $f(\alpha) \approx -0,9$)3. (أ) بين أن المنحنى (\mathcal{C}_f) يقبل مماسين ، معامل توجيه كل منهما يساوي 1 ، يطلب تعيين معادلة لكل منهما(ب) مثل (Δ) و المماسين و المنحنى (\mathcal{C}_f) (ج) ناقش بيانيا ، حسب قيم الوسيط الحقيقي m ، عدد حلول المعادلة ذات المجهول x : $(x + 1)^2 + me^x = 0$ 4. الدالة H معرفة على \mathbb{R} بـ : $H(x) = (-x^2 - 4x - 5)e^{-x}$ (أ) بين أن H دالة أصلية للدالة : $x \mapsto (x + 1)^2 e^{-x}$ على \mathbb{R} (ب) احسب بالسنتمتر المربع ، مساحة الحيز المستوي المحدد بالمنحنى (\mathcal{C}_f) و المستقيم (Δ) و المستقيمين اللذينمعادلتاهما $x = 0$ و $x = -1$ الجزء الثالث (u_n) المتتالية العددية المعرفة بـ : $u_0 = \alpha$ و من أجل كل عدد طبيعي n ، $u_{n+1} = f(u_n)$ (نذكر أن العدد α يحقق $g(\alpha) = 0$)1. برهن بالتراجع أنه ، من أجل كل عدد طبيعي n ، $-1 \leq u_n \leq \alpha$ 2. بين أن المتتالية (u_n) متناقصة3. استنتج أن (u_n) متقاربة ، ثم احسب نهايتها

تمرين 49

رياضيات - 2012 - الموضوع الأول (8 نقاط)

الجزء الأول g هي الدالة المعرفة على \mathbb{R} كما يلي : $g(x) = 2 - xe^x$

1. ادرس تغيّرات الدالة g ، ثم شكّل جدول تغيّراتها
2. بيّن أنّ المعادلة $g(x) = 0$ تقبل حلا وحيدا α على \mathbb{R} ، ثمّ تحقق أنّ : $0,8 < \alpha < 0,9$
3. عيّن ، حسب قيم x ، إشارة $g(x)$

الجزء الثاني f هي الدالة المعرفة على \mathbb{R} كما يلي :

$$f(x) = \frac{2x + 2}{e^x + 2}$$

(\mathcal{C}_f) هو تمثيلها البياني في المستوي المنسوب إلى المعلم المتعامد و المتجانس $(O; \vec{i}, \vec{j})$. (وحدة الطول 2 cm)

1. بيّن أنّ : $\lim_{x \rightarrow +\infty} f(x) = 0$ ، ثمّ فسر النتيجة هندسيا
2. احسب $\lim_{x \rightarrow -\infty} f(x)$ (I)
- (ب) بيّن أنّ المستقيم (Δ') ذا العادلة $y = x + 1$ مستقيم مقارب للمنحنى (\mathcal{C}_f)
3. ادرس وضعية (\mathcal{C}_f) بالنسبة إلى كل من (Δ) و (Δ') ، حيث (Δ) هو المستقيم ذو المعادلة $y = x$
4. (II) بيّن أنّه من أجل كل عدد حقيقي x ،

$$f'(x) = \frac{2g(x)}{(e^x + 2)^2}$$

ثمّ استنتج اتجاه تغيّر الدالة

- (ب) بيّن أنّ : $f(\alpha) = \alpha$ ، ثمّ شكّل جدول تغيّرات الدالة f
5. ارسم (Δ) ، (Δ') و (\mathcal{C}_f)
6. ناقش بيانيا حسب قيم الوسيط الحقيقي m ، عدد حلول المعادلة $f(x) = f(m)$

الجزء الثالث (U_n) هي المتتالية العددية المعرفة على \mathbb{N} كما يلي : $U_0 = 0$ و من أجل كل عدد طبيعي n : $U_{n+1} = f(U_n)$

1. برهن بالتراجع أنّه من أجل كل عدد طبيعي n ، $0 \leq U_n < \alpha$
2. باستعمال (Δ) و (\mathcal{C}_f) ممثّل على محور لافواصل الحدود : U_0 ، U_1 و U_2 ، ثمّ خمن اتجاه تغيّر (U_n)
3. برهن أنّ المتتالية (U_n) متقاربة، ثمّ احسب نهايتها

تمرين 50

رياضيات - 2012 - الموضوع الثاني (8 نقاط)

الجزء الأول g هي الدالة المعرفة على المجال $]-1; 3]$ كما يلي : $g(x) = 2\ln(x+1) - \frac{x}{x+1}$

1. ادرس تغيّرات الدالة g ، ثم شكّل جدول تغيّراتها
2. بيّن أنّ المعادلة $g(x) = 0$ تقبل حلين أحدهما معدوم و الآخر α يحقق : $-0,8 < \alpha < -0,7$
3. عيّن ، حسب قيم x ، إشارة $g(x)$

4. h هي الدالة المعرفة على المجال $]-1; 3]$ بـ : $h(x) = [g(x)]^2$

- (أ) احسب $h'(x)$ بدلالة كل من $g(x)$ و $g'(x)$
- (ب) عيّن إشارة $h'(x)$ ، ثم شكّل جدول تغيّرات الدالة h

الجزء الثاني f هي الدالة المعرفة على المجال $]-1; 3]$ كما يلي :

$$\begin{cases} f(x) = \frac{x^2}{\ln(x+1)} , & x \neq 0 \\ f(0) = 0 \end{cases}$$

(\mathcal{C}_f) هو تمثيلها البياني في المستوي المنسوب إلى المعلم المتعامد و المتجانس $(\vec{i}, \vec{j}; 0)$

1. بيّن أنّ الدالة f تقبل الاشتقاق عند 0 ، ثم اكتب معادلة T مماس (\mathcal{C}_f) في النقطة ذات الفاصلة 0
2. (أ) بيّن أنّه من أجل كل عدد حقيقي x من $]-1; 0[\cup]0; 3]$ ،

$$f'(x) = \frac{x g(x)}{[\ln(x+1)]^2}$$

ثم استنتج اتجاه تغيّر الدالة f

- (ب) بيّن أنّ : $f(\alpha) = 2\alpha(\alpha+1)$ ، ثم عيّن حصرا لـ $f(\alpha)$
- (ج) احسب $f(3)$ و $\lim_{x \rightarrow -1} f(x)$ ، ثم شكّل جدول تغيّرات الدالة f
3. (أ) بيّن أنّه من أجل كل عدد حقيقي x من المجال $]-1; 3]$ فإنّ : $x - \ln(x+1) \geq 0$
- (ب) ادرس وضعية (\mathcal{C}_f) بالنسبة إلى المماس (T)

4. عيّن معادلة للمستقيم (T') الموازي للمماس (T) و الذي يتقاطع مع (\mathcal{C}_f) في النقطة ذات الفاصلة 3

5. ارسم (T) ، (T') و (\mathcal{C}_f)

6. ناقش بيانيا ، حسب قيم الوسيط الحقيقي m ، عدد حلول المعادلة $f(x) = x + m$

تمرين 51

رياضيات - 2011 - الموضوع الأول (7 نقاط)

نعتبر الدالة العددية f المعرفة على \mathbb{R} كما يلي : $f(x) = (3x + 4)e^x$ (\mathcal{C}_f) هو تمثيلها البياني في المستوى المنسوب إلى المعلم المتعامد و المتجانس $(O; \vec{i}, \vec{j})$ 1. (ا) احسب $f'(x)$ ، $f''(x)$ ثم برهن بالتراجع أنه من أجل كل عدد طبيعي n غير معدوم فإن : $f^{(n)}(x) = (3x + 3n + 4)e^x$ حيث f' ، f'' ، \dots ، $f^{(n)}$ المشتقات المتتالية للدالة f (ب) استنتج حل للمعادلة التفاضلية : $y'' = (3x + 16)e^x$ 2. (ا) بين أن : $\lim_{x \rightarrow -\infty} f(x) = 0$ و فسر النتيجة هندسيا(ب) ادرس اتجاه تغير الدالة f ثم شكّل جدول تغيراتها3. (ا) اكتب معادلة للمماس (Δ) للمنحنى (\mathcal{C}_f) في النقطة ω التي فاصلتها $\frac{-10}{3}$ (ب) بين أن النقطة ω هي نقطة انعطاف للمنحنى (\mathcal{C}_f) (ج) ارسم (Δ) و (\mathcal{C}_f) على المجال $]-\infty; 0]$ 4. (ا) x عدد حقيقي من المجال $]-\infty; 0]$ ، باستعمال التكامل بالتجزئة جد $\int_{-1}^x te^t dt$ ثم استنتج دالة أصلية للدالة f على المجال $]-\infty; 0]$ (ب) λ عدد حقيقي أصغر تماما من $-\frac{4}{3}$ احسب بدلالة λ المساحة $A(\lambda)$ للحيّز المستوي المحدّد بالمنحنى (\mathcal{C}_f) و المستقيمت التي معادلاتها : $y = 0$ ، $x = \lambda$ و $x = -\frac{4}{3}$ ثم جد $\lim_{\lambda \rightarrow -\infty} A(\lambda)$

تمرين 52

رياضيات - 2011 - الموضوع الثاني (7 نقاط)

1. g الدالة العددية المعرفة على المجال $]0; +\infty[$ بـ : $g(x) = x^2 + \ln x^2 - 1$ (أ) ادرس اتجاه تغير الدالة g ثم شكّل جدول تغيراتها(ب) احسب $g(1)$ ثم استنتج إشارة $g(x)$ في المجال $]0; +\infty[$ 2. f الدالة العددية المعرفة على المجال $]0; +\infty[$ كما يلي :

$$f(x) = \left(1 - \frac{1}{x^2}\right) \ln x$$

و (\mathcal{C}_f) هو تمثيلها البياني في المستوي المنسوب إلى المعلم المتعامد و المتجانس $(O; \vec{i}, \vec{j})$ (أ) بيّن أنّ f قابلة للاشتقاق على المجال $]0; +\infty[$ وأنّ : $f'(x) = \frac{g(x)}{x^3}$ استنتج اتجاه تغير الدالة f ثم شكّل جدول تغيراتها(ب) (δ) المنحني الممثل للدالة $x \mapsto \ln x$ على المجال $]0; +\infty[$ - ادرس وضعية (\mathcal{C}_f) بالنسبة إلى (δ) ثم جد $\lim_{x \rightarrow +\infty} \frac{1}{x^2} \ln x$ ، ماذا تستنتج ؟- ارسم (δ) و (\mathcal{C}_f) 3. (أ) x عدد حقيقي من المجال $[1; +\infty[$ ، باستعمال التكامل بالتجزئة جد $\int_1^x \frac{1}{t^2} \ln t dt$ - تحقق أنّ : $x \mapsto x \ln x - x$ هي دالة أصلية للدالة $x \mapsto \ln x$ على المجال $[1; +\infty[$ - استنتج دالة أصلية للدالة f على المجال $[1; +\infty[$ (ب) α عدد حقيقي أكبر تماماً من 1احسب بدلالة α المساحة $A(\alpha)$ للحيز المستوي المحدد بالمنحنين (\mathcal{C}_f) و (δ) و المستقيمين اللذين معادلتيهما :

$$\lim_{\alpha \rightarrow +\infty} A(\alpha) \text{ ، ثم احسب } x = \alpha \text{ و } x = 1$$

تمرين 53

رياضيات - 2010 - الموضوع الأول (7 نقاط)

الجزء الأول g الدالة العددية المعرفة على \mathbb{R} كما يلي : $g(x) = (3-x)e^x - 3$

1. ادرس تغيّرات الدالة g
2. بيّن أنّ المعادلة $g(x) = 0$ تقبل في \mathbb{R} حلين أحدهما معدوم و الآخر α حيث : $2,82 < \alpha < 2,83$
3. استنتج إشارة $g(x)$ حسب قيم x

الجزء الثاني f الدالة العددية المعرفة على \mathbb{R} كما يلي :

$$\begin{cases} f(x) = \frac{x^3}{e^x - 1}, & x \neq 0 \\ f(0) = 0 \end{cases}$$

(\mathcal{C}_f) هو تمثيلها البياني في المستوي المنسوب إلى المعلم المتعامد و المتجانس ($O; \vec{i}, \vec{j}$)

1. بيّن أنّ الدالة f تقبل الاشتقاق عند $x_0 = 0$ ، اكتب معادلة \perp (T) مماس (\mathcal{C}_f) عند المبدأ O
- 2 (أ) بيّن أنّ $\lim_{x \rightarrow +\infty} x^3 e^{-x} = 0$ ثمّ احسب $\lim_{x \rightarrow +\infty} f(x)$ ، احسب $\lim_{x \rightarrow -\infty} f(x)$
- (ب) بيّن أنّه من أجل $x \neq 0$ فإنّ :

$$f'(x) = \frac{x^2}{(e^x - 1)^2} g(x)$$

(ج) تحقق أنّ $f(\alpha) = \alpha^2(3 - \alpha)$ ثمّ عيّن حصرا له

(د) أنشئ جدول تغيّرات الدالة f

3. احسب $f(x) + x^3$ و استنتج الوضعية النسبية لـ (\mathcal{C}_f) و (\mathcal{C}) منحنى الدالة $x \mapsto -x^3$
- بيّن أنّ $\lim_{x \rightarrow -\infty} [f(x) + x^3] = 0$ و فسر النتيجة هندسيا
4. أنشئ في نفس المعلم المماس (T) و المنحنيين (\mathcal{C}) و (\mathcal{C}_f)

تمرين 54

رياضيات - 2010 - الموضوع الثاني (7 نقاط)

الدالة المعرفة على المجال $]0; +\infty[$ كما يلي : $g(x) = x - 1 - 2\ln x$

و (\mathcal{C}_g) هو تمثيلها البياني في المستوي المنسوب إلى المعلم المتعامد و المتجانس $(O; \vec{i}, \vec{j})$ وحدة الطول هي 4 cm

1. احسب $\lim_{x \rightarrow 0} g(x)$ ثم فس النتيجة هندسيا

2. (ا) بيّن أنّ $\lim_{x \rightarrow +\infty} g(x) = +\infty$

(ب) ادرس تغيّرات الدالة g

(ج) احسب $g(1)$

(د) بيّن أنّ المعادلة $g(x) = 0$ تقبل حلين مختلفين أحدهما α حيث : $3,5 < \alpha < 3,6$

(هـ) استنتج إشارة $g(x)$ ثم إشارة $g\left(\frac{1}{x}\right)$

3. f الدالة العددية المعرفة على المجال $]0; +\infty[$ كما يلي :

$$\begin{cases} f(x) = -x^2 + x + x^2 \ln x, & x > 0 \\ f(0) = 0 \end{cases}$$

(ا) احسب $\lim_{x \rightarrow 0} \frac{f(x)}{x}$ و فسر النتيجة هندسيا

(ب) احسب نهاية الدالة f عند $+\infty$

(ج) بيّن أنّه من أجل كل عدد حقيقي x من المجال $]0; +\infty[$ فإنّ : $f'(x) = xg\left(\frac{1}{x}\right)$ ، و استنتج اتجاه تغيّر الدالة f

(د) شكل جدول تغيّرات الدالة f ، بيّن أنّ : $f\left(\frac{1}{\alpha}\right) = \frac{\alpha-1}{2\alpha^2}$ و استنتج حصرا للعدد $f\left(\frac{1}{\alpha}\right)$

4. ارسم المنحنى (\mathcal{C}_f) الممثل للدالة f على المجال $[0; 3]$

تمرين 55

رياضيات - 2009 - الموضوع الثاني (7 نقاط)

f الدالة العددية المعرفة على المجال $]-1; +\infty[$ كما يأتي :

$$f(x) = x - \frac{2}{\sqrt{x+1}}$$

(\mathcal{C}_f) هو تمثيلها البياني في المستوي المنسوب إلى المعلم المتعامد و المتجانس $(O; \vec{i}, \vec{j})$

1. ادرس تغيّرات الدالة f

2. (أ) بيّن أنّ المنحنى (\mathcal{C}_f) يقبل مستقيمين مقاربين أحدهما (D) معادلته $y = x$

(ب) ادرس الوضعية النسبية للمنحنى (\mathcal{C}_f) و (D)

3. (أ) بيّن أنّ (\mathcal{C}_f) يقطع محور الفواصل في نقطة وحيدة فاصلتها x_0 حيث $1,3 < x_0 < 1,4$

(ب) عيّن معادلة (Δ) مماسا للمنحنى (\mathcal{C}_f) في نقطة تقاطعه مع محور الترتيب

(ج) ارسم (Δ) و (D) في نفس المعلم

4. أوجد الدالة الأصلية للدالة f و التي تتعدم من أجل القيمة 0 للمتغير x

5. g الدالة العددية المعرفة على المجال $]-1; +\infty[$ بالعبارة : $g(x) = |f(x)|$

(\mathcal{C}_g) منحنى الدالة g في المعلم السابق

بيّن كيف يمكن إنشاء (\mathcal{C}_g) انطلاقا من (\mathcal{C}_f) ، ثم ارسمه في نفس المعلم السابق

6. ناقش بيانيا حسب قيم الوسيط الحقيقي m عدد و إشارة حلول المعادلة ذات المجهول x : $g(x) = m^2$

تمرين 56

رياضيات - 2008 - الموضوع الثاني (7 نقاط)

الجزء الأول f الدالة العددية المعرفة على \mathbb{R} بالعلاقة :

$$f(x) = x - 1 + \frac{4}{e^x + 1}$$

 (\mathcal{C}_f) هو تمثيلها البياني في المستوي المنسوب إلى المعلم المتعامد و المتجانس $(O; \vec{i}, \vec{j})$

1. ادرس تغيّرات الدالة f
2. - بيّن أنّ (\mathcal{C}_f) يقبل نقطة انعطاف ω و اكتب معادلة لمماس (\mathcal{C}_f) عند النقطة ω
- أثبت أنّ ω مركز تناظر للمنحنى (\mathcal{C}_f)
3. - احسب $\lim_{x \rightarrow -\infty} [f(x) - (x + 3)]$ و $\lim_{x \rightarrow +\infty} [f(x) - (x - 1)]$
- استنتج أنّ (\mathcal{C}_f) يقبل مستقيمين مقاربيين يطلب إعطاء معادلة لكل منهما
4. - بيّن أنّ (\mathcal{C}_f) يقطع محور الفواصل في نقطة وحيدة فاصلتها x_0 من المجال $]-2,77; -2,76[$
- احسب $f(1)$ و $f(-1)$ (تدور لانتايج إلى 10^{-2}) ثمّ ارسم (\mathcal{C}_f) و مستقيمي المقاربيين

الجزء الثاني g الدالة العددية المعرفة على \mathbb{R} بالعلاقة

$$g(x) = -x + 3 - \frac{4}{e^x + 1}$$

 (\mathcal{C}_g) منحنى الدالة g

1. - بيّن أنّه من أجل كل عدد حقيقي x فإن $g(x) = f(-x)$
- استنتج أنّه يوجد تحويل نقطي بسيط يحول (\mathcal{C}_f) إلى (\mathcal{C}_g)
2. أنشئ في نفس المعلم السابق (\mathcal{C}_g) (دون دراسة الدالة g)